


時間と時こく(1)

名前 _____
 ・時間の計算 _____ 月 _____ 日

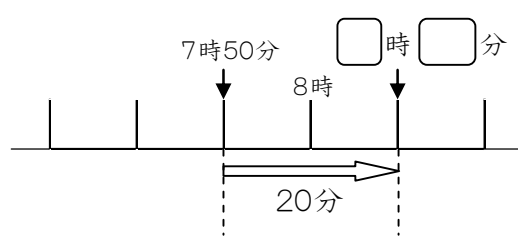
「プリント3」の「深大出版」

1 たつのりくんは、家を7時50分に出て、20分歩いて学校に着きました。学校に着いた時こくは何時何分ですか。

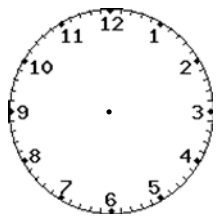
家を出た時こく



7時50分



学校に着いた時こく

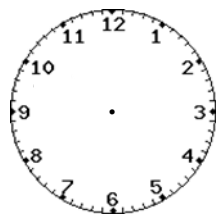


時 分

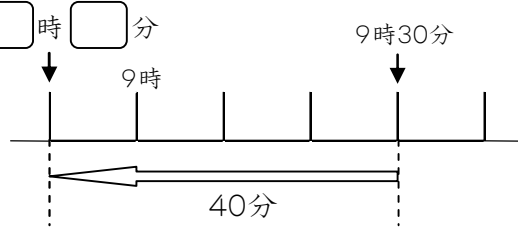
時計のはりをかこう。

2 1時間目のじゅ業が終わったのは9時30分です。じゅ業の時間は40分です。1時間目のじゅ業が始まったのは何時何分ですか。

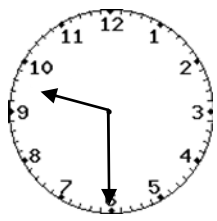
じゅ業の始まり



時 分



じゅ業の終わり



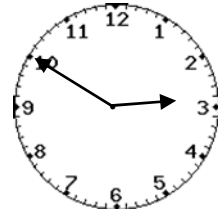
9時30分

3 次の時こくを書きましょう。

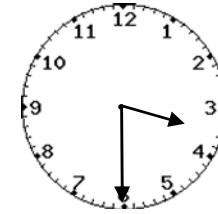
- ① 1時40分から30分後の時こく _____ 時 分
- ② 10時50分から30分後の時こく _____ 時 分
- ③ 2時20分から50分前の時こく _____ 時 分

4 たつのりくんの学校では、2時50分から3時30分まで放か後に遊ぶことができます。放か後遊びの時間は何分ですか。

放か後遊び始まり

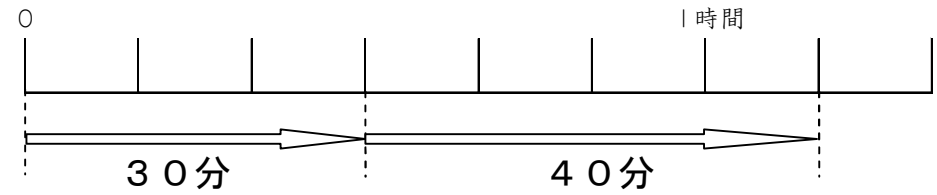


放か後遊び終わり



_____ 分

5 たつのりくんは家に帰ってから、30分宿題をして40分ゲームをしました。宿題とゲームの時間はあわせて何時間何分ですか。



_____ 時間 分

6 次の時間を書きましょう。

- ① 9時10分から10時までの時間 _____ 分
- ② 3時30分から5時10分までの時間 _____ 時間 分
- ③ 40分と50分をあわせた時間 _____ 時間 分
- ④ 1時間15分と35分をあわせた時間 _____ 時間 分
- ⑤ 25分と1時間45分をあわせた時間 _____ 時間 分