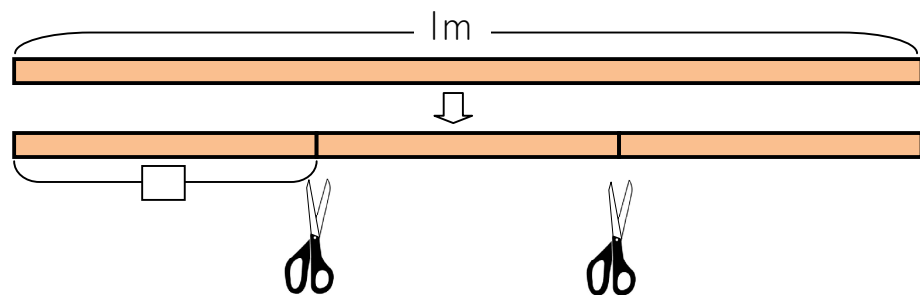


分数(1)

名前 _____

・分数の意味 月 日

1mのリボンを3等分して切りました。



1に分の長さを何といえばよいでしょうか。

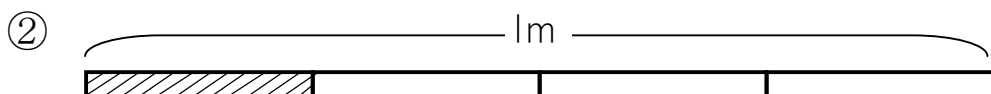


1mのリボンを3等分したに分の長さを、
1mの**三分の一**といいます。
また、1mの三分の一の長さを、 $\frac{1}{3}$ mと書き、
「三分の一メートル」と読みます。

書き方

1	...	③
3	...	①
	...	②

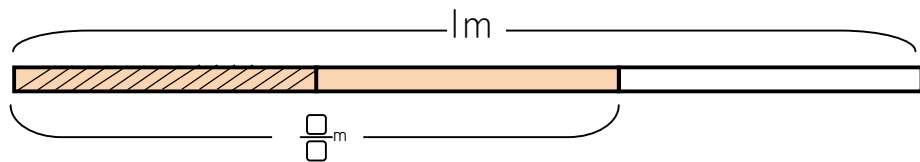
1 の部分の長さは何mですか。分数で書きましょう。



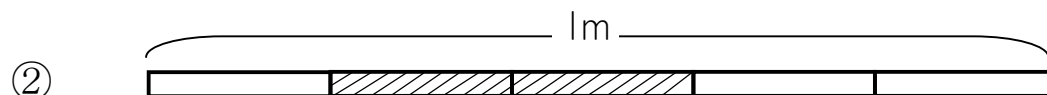
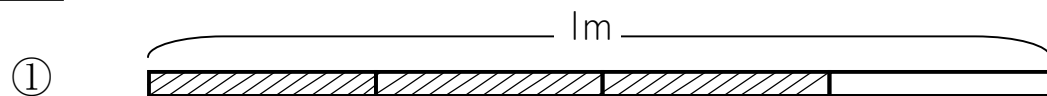
の中を書きましょう。

2 1mを3等分した2こ分の長さを、1mの**三分の二**といいます。

また、1mの三分の二の長さを、 $\frac{\square}{\square}$ mと書き、「三分の二メートル」と読みます。



3 の部分の長さは何mですか。分数で書きましょう。

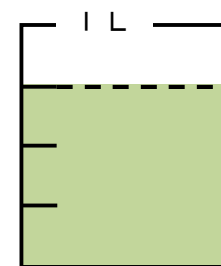


4 1Lのますに水が入っています。

① 1めもりは、1Lを何等分していますか。

② 水のかさは、1めもりの何こ分ですか。

③ 水のかさは何Lですか。分数で書きましょう。



5 次の水のかさは1めもりの何こ分ですか。また、何Lですか。

