

1 あなたは自分の体重をはかるとき、どんなたんいを使いますか。
カタカナで答えてみましょう。

キログラムになりましたか？



キログラムは **kg** と書きます。

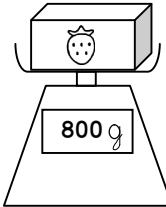
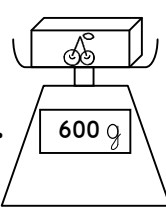
1 kgより軽いものをはかる時や、はしたを表す時は
グラムを使います。


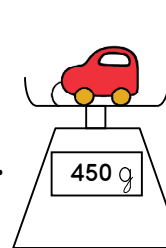
1kgは1000gです。 $1\text{kg} = 1000\text{g}$

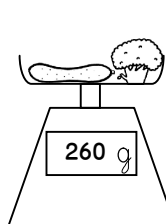
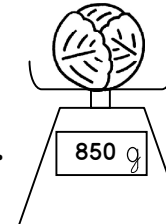
2 にあてはまる数を書きましょう。

- ① $2000\text{g} = \text{ kg}$
- ② $1200\text{g} = \text{ kg} \text{ g}$
- ③ $5030\text{g} = \text{ kg} \text{ g}$
- ④ $7004\text{g} = \text{ kg} \text{ g}$
- ⑤ $4\text{kg} = \text{ g}$
- ⑥ $4\text{kg} 750\text{g} = \text{ g}$

3 あわせて何gですか。また何kg何gですか。

①  +  g , kg g

②  +  g , kg g

③  +  g , kg g

4 ゆいちくんがはだかで体重をはかったら25kg でした。500gの
ようふく洋服と、1500gのランドセルをせおって体重をはかると、どれだけの
重さになりますか。

式



答え _____