

重さ(1)

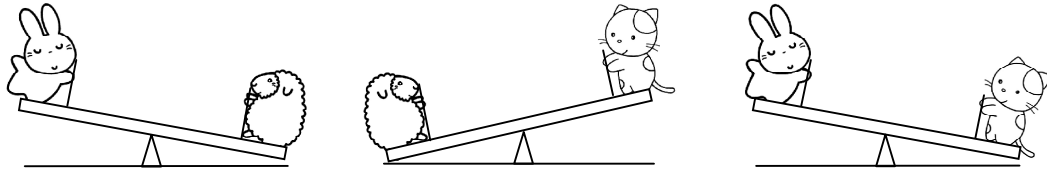
名前

- ・グラム
- ・はかり

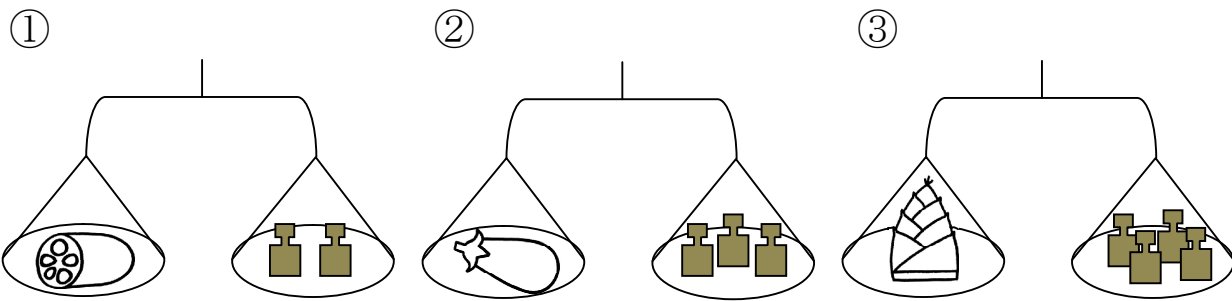
月 日

「お」のプリントは「深大出版」

1 重いじゅんに動物の名前を書きましょう。



2 おもりいくつ分の重さですか。



3 重さは「たんににした重さの何こ分か」で表します。
重さのたんのひとつにグラムがあります。 グラム
g
1円玉にの重さは1gです。

グラムを使って重さを表しているものを、あなたの生活の中からさがして書きましょう。

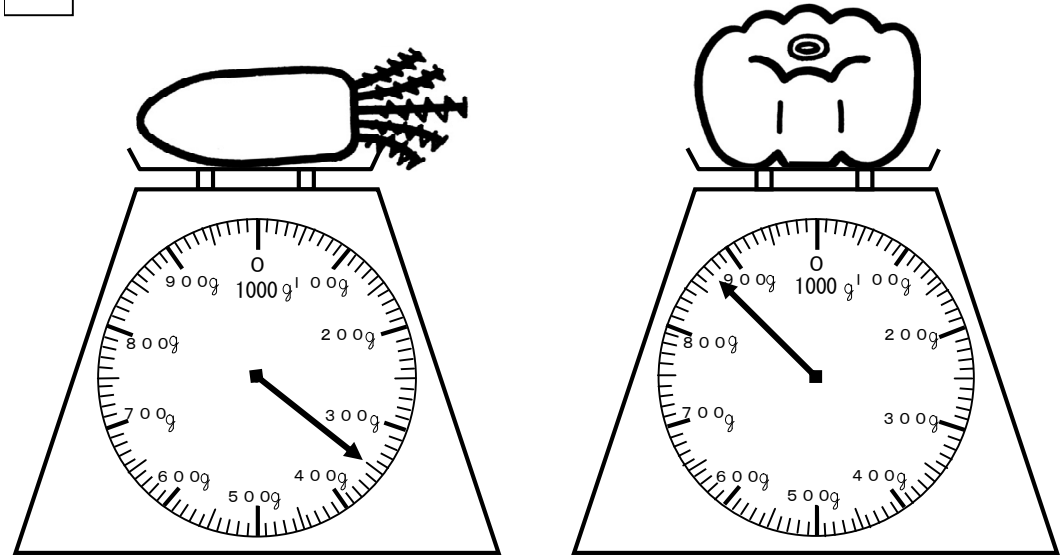
4 1円玉1この重さは1gです。

- ① 1円玉50この重さは何gですか。

- ② 1円玉320この重さは何gですか。

- ③ 574gは1円玉何こ分ですか。

5 だいこんとかぼちゃの重さをはかりました。



① はかりのめもりは何gをさしていますか。



② どちらがどれだけ重いですか。

式