

名前 _____

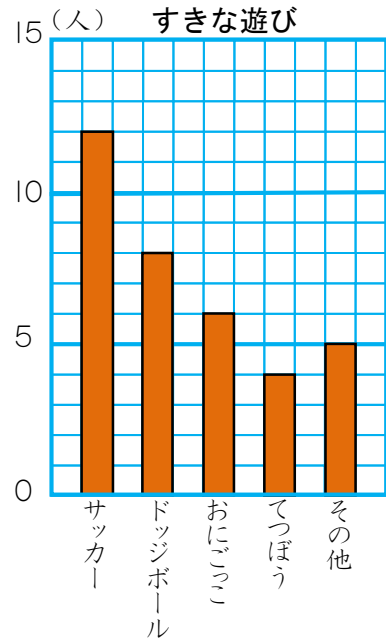
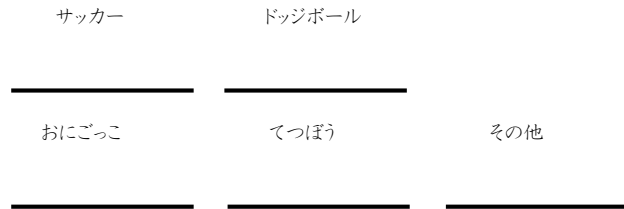
・ぼうグラフ2 _____ 月 _____ 日

「おもしろいプリント」 深大出版

1 3年2組では、好きな遊びを調べて右のぼうグラフに表しました。

① グラフの1めもりは何人を表していますか。

② それぞれの人数を書きましょう。



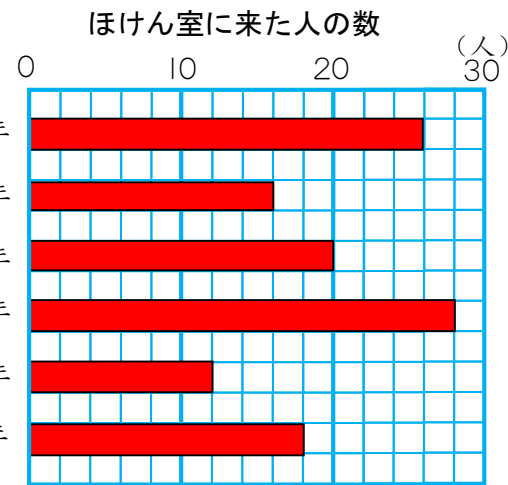
③ サッカーの人数はてつぼうの人数の何倍ですか。

2 9月にほけん室に来た人を学年べつに調べて、右のぼうグラフに表しました。

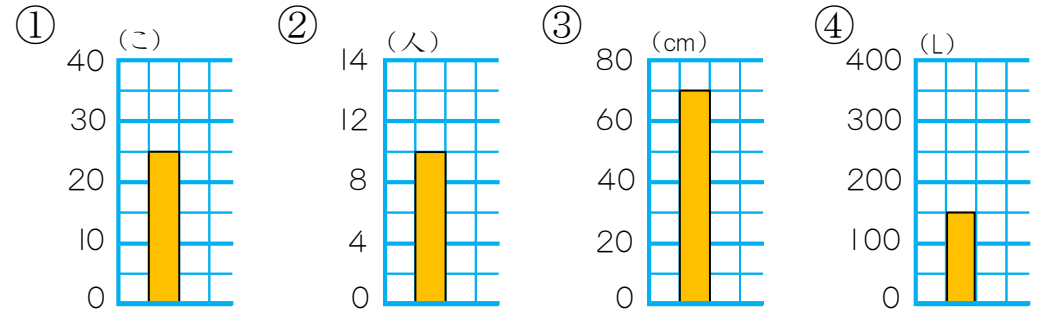
① グラフの1めもりは何人を表していますか。

② 2年生は何人ですか。

③ ほけん室に来た人数が多いじゅんに学年を書きましょう。

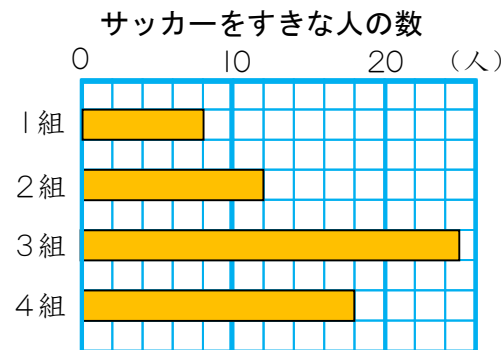
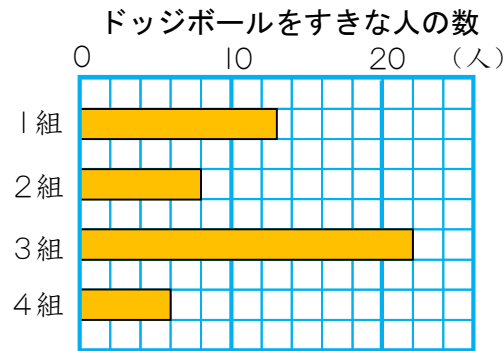


3 下のぼうグラフで、1めもりが表している大きさを答えましょう。また、ぼうが表している大きさも答えましょう。



1めもり _____
 ぼうの大きさ _____

4 3年生全体の、ドッジボールを好きな人の数と、サッカーを好きな人の数を、2つのぼうグラフにしました。(「りょう方すき」も入っています。)



① グラフの1めもりは、何人を表していますか。

② ドッジボールを好きな人は全部で何人ですか。

③ サッカーを好きな人は全部で何人ですか。

④ 2つのグラフから読み取れることを書きましょう。