



小数(3)

名前 _____

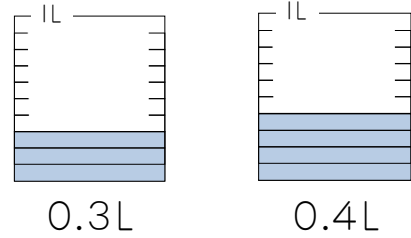
- ・小数のたし算
- ・小数のひき算

月 _____ 日 _____


「おぼろげ」印刷センター 深大出版

1 ジュースが左のペットボトルに0.3L、右のペットボトルに0.4L入っています。あわせて何Lですか。

式 _____



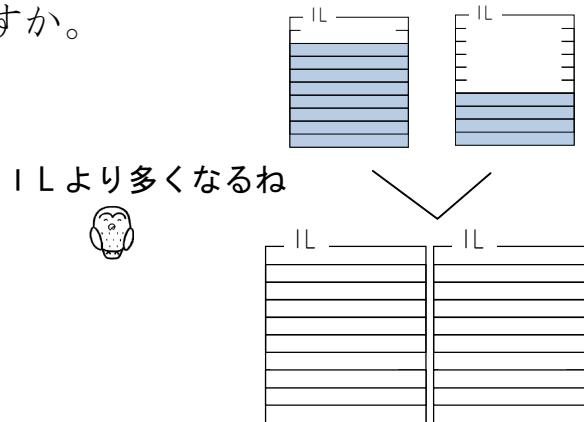
0.3Lと0.4Lたすとめもりはどこまでかな？色をぬってね。



答え _____

2 牛にゅうが大きなようきに0.8L、小さなようきに0.4L入っています。あわせて何Lですか。

式 _____



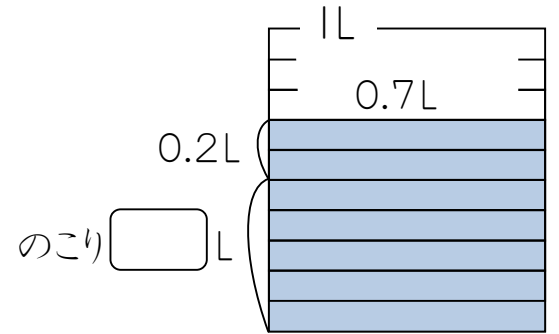
答え _____

3 計算をしましょう。

- | | | |
|-------------|-------------|-------------|
| ① 0.3 + 0.2 | ② 1.2 + 0.6 | ③ 0.3 + 0.7 |
| ④ 1 + 0.4 | ⑤ 0.8 + 3 | ⑥ 0.6 + 0.8 |
| ⑦ 0.9 + 0.5 | ⑧ 0.5 + 0.5 | ⑨ 0.6 + 1.4 |

4 コーラが0.7Lあります。0.2Lコップについて飲みました。のこりは何Lですか。

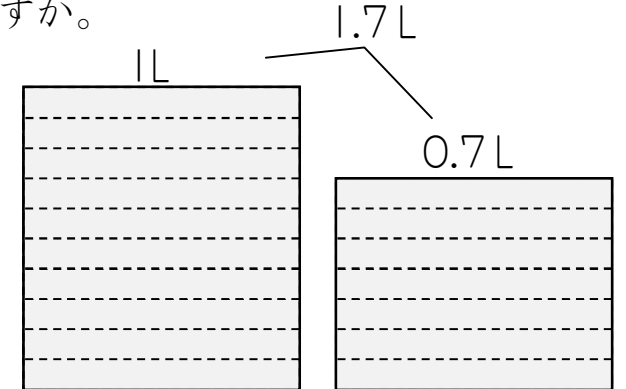
式 _____



答え _____

5 水がやかんに1.7L入っています。0.8Lなべにうつしました。やかんにのこった水は何Lですか。

式 _____



答え _____

6 計算をしましょう。

- | | | |
|-------------|-------------|-------------|
| ① 0.8 - 0.3 | ② 1.5 - 0.2 | ③ 0.3 - 0.3 |
| ④ 1 - 0.6 | ⑤ 1.3 - 0.3 | ⑥ 1 - 0.1 |
| ⑦ 2.5 - 0.4 | ⑧ 1.7 - 0.9 | ⑨ 2.4 - 2 |

7 にあてはまる数を書きましょう。

- ① 2.5は3より 小さい数です。
- ② 2.5は0.1を こ集めた数です。