



# 小数(2)

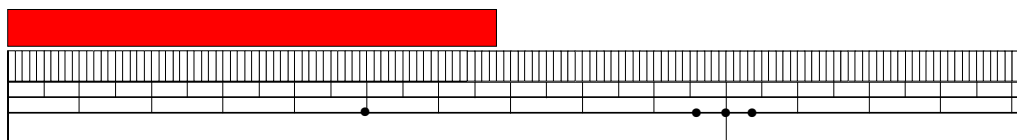
名前 \_\_\_\_\_

- ・長さを小数で表す
- ・小数のしくみ

月 \_\_\_\_\_ 日 \_\_\_\_\_

「わがまま」出版

1 テープの長さを調べましょう。



① テープの長さは何cm何mmですか。

\_\_\_\_\_ cm \_\_\_\_\_ mm

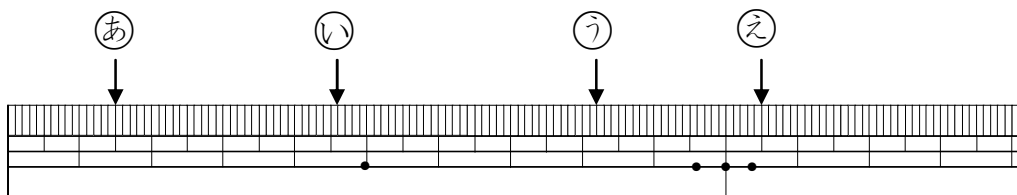


1 mmは1 cmを10等分した長さです。これを0.1 cmといいます。

② テープの長さは何cmですか。小数で表しましょう。

\_\_\_\_\_ cm

2 ↓ のところの長さは何cmですか。



あ \_\_\_\_\_ cm    い \_\_\_\_\_ cm    う \_\_\_\_\_ cm    え \_\_\_\_\_ cm

3 □ にあてはまる数を書きましょう。

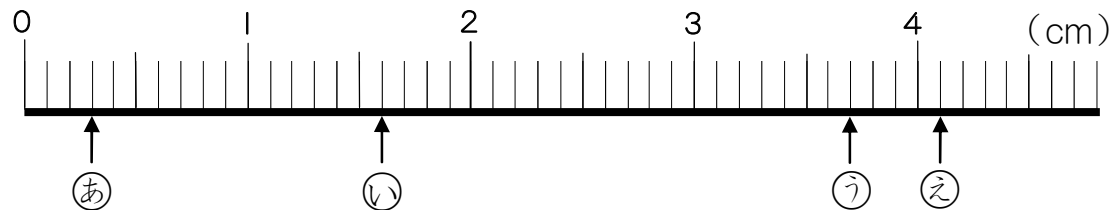
① 1Lと0.3Lをあわせると、□ L

② 5Lと□ Lをあわせると、5.6L

③ 1L = □ dL

④ 0.5L = □ dL

4 次の数直線について考えましょう。



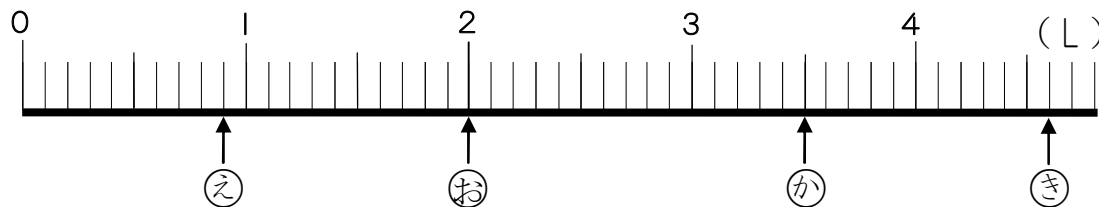
① いちばん小さいめもりはいくつですか。

\_\_\_\_\_ cm

② ↑ のところの長さは何cmですか。

あ \_\_\_\_\_ cm    い \_\_\_\_\_ cm    う \_\_\_\_\_ cm    え \_\_\_\_\_ cm

5 次の数直線について考えましょう。



① いちばん小さいめもりはいくつですか。

\_\_\_\_\_ L

② ↑ のところの長さは何Lですか。

え \_\_\_\_\_ L    お \_\_\_\_\_ L    か \_\_\_\_\_ L    き \_\_\_\_\_ L

6 次の数を小さいじゅんにならべましょう。

2.4    0.8    1    5.2    3



7 □ の中にあてはまる言葉や数を書きましょう。

① 小数点のすぐ右の位を \_\_\_\_\_ といいます。

② 3.2は1を \_\_\_\_\_ こと0.1を \_\_\_\_\_ こ集めた数です。

十の位    一の位  
□  
3.2