



小数(1)

名前 _____

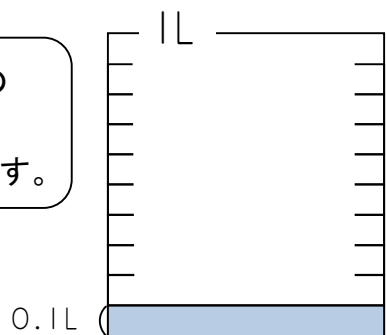
- ・小数の意味
- ・小数と整数

月 日

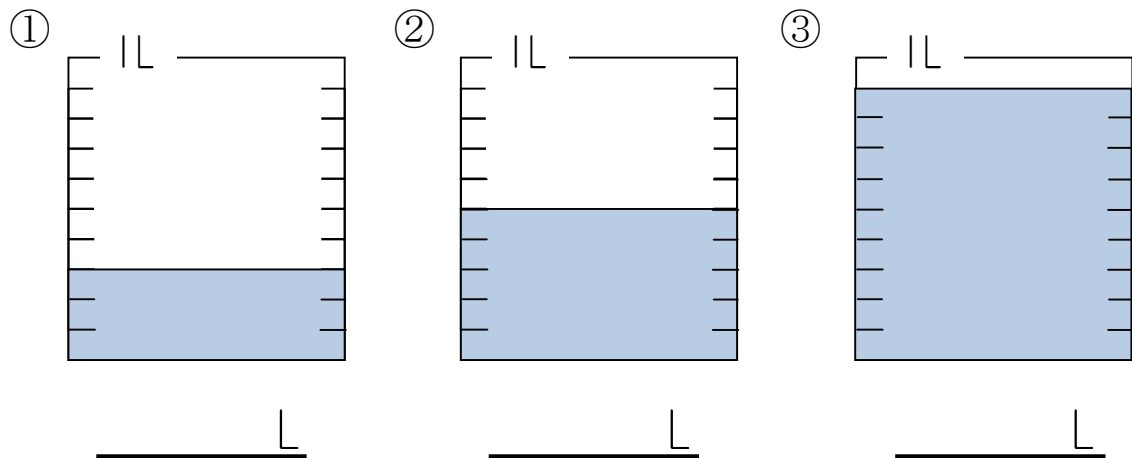
「印刷用紙」の裏面に「深大出版」



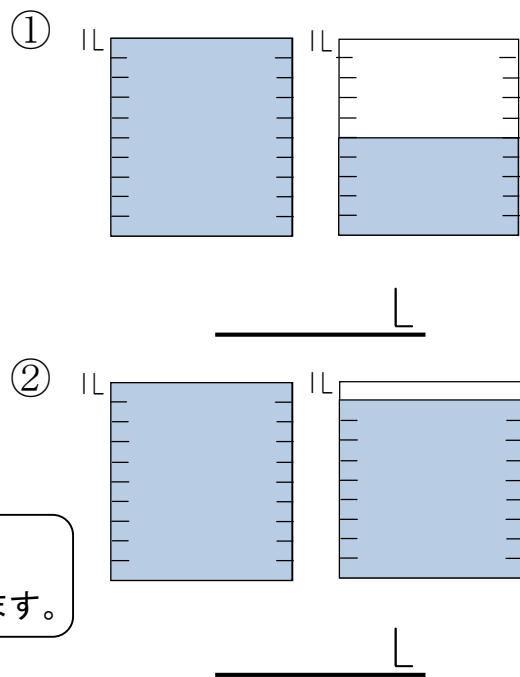
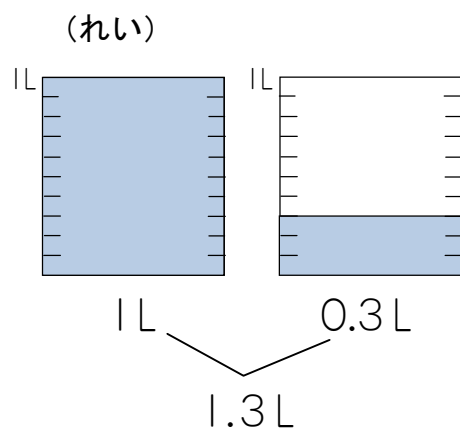
1Lを10等分した1こ分の
かさを、0.1Lと書き、
「れい点一リットル」と読みます。



1 次のかさは何Lですか。



2 次のかさは何Lですか。

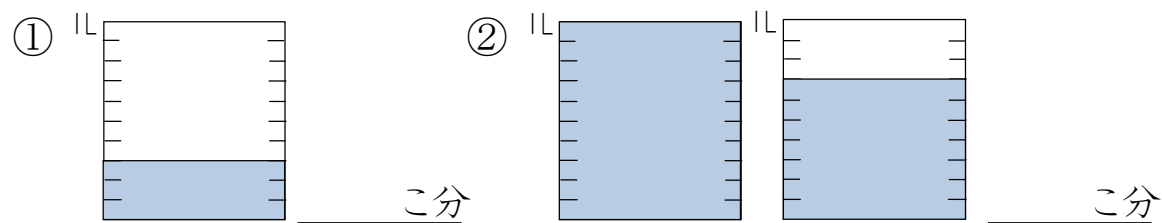


1Lとはしたの0.3Lをあわせたかさを
1.3Lと書き、「一点三リットル」と読みます。

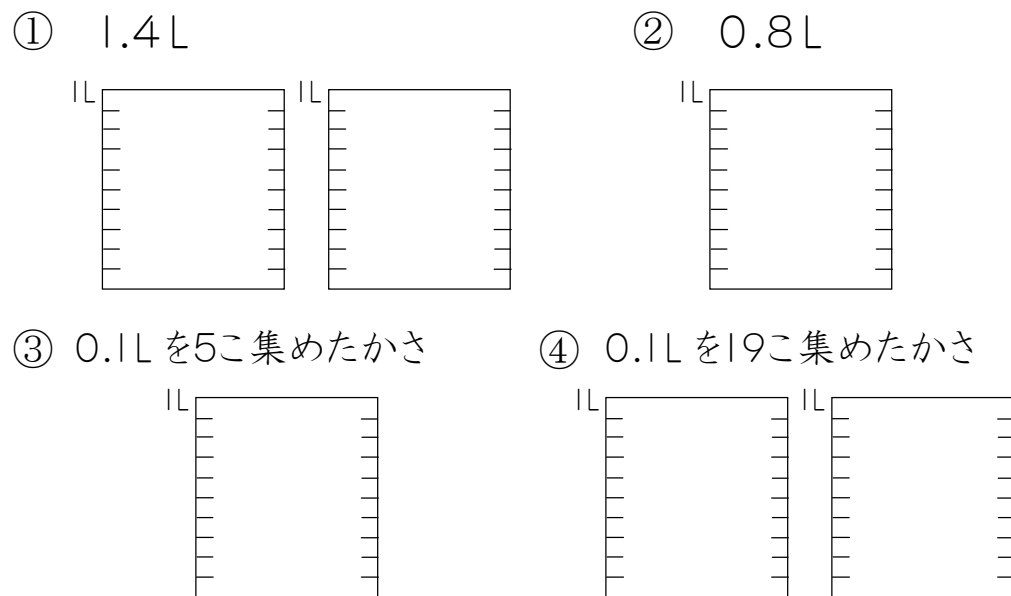
3 □の中にあてはまる言葉を書きましょう。

小数
 1.6や0.2のような数を ① といひ、
 「.」を ② といひます。
 0, 1, 2, 3, 4 ... のような数を ^{せいすう} **整数** といひます。

4 次の水のかさは0.1Lの何こ分ですか。



5 次の水のかさの分だけ、色をぬりましょう。



5 小数に○を、整数に△を書きましょう。

1.2 7 108 0.9 15 8.3
 () () () () () ()