



たし算とひき算(3)

名前 _____

・3けた-3けた
・1000 からひく

月 _____ 日 _____

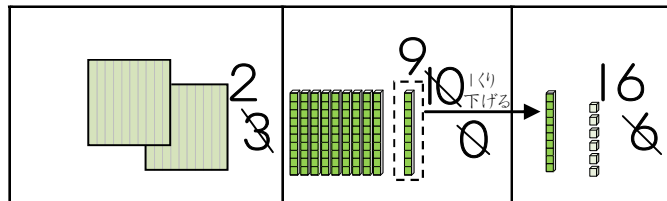
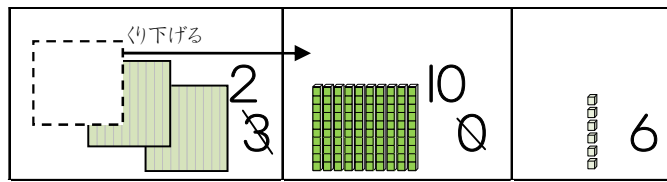
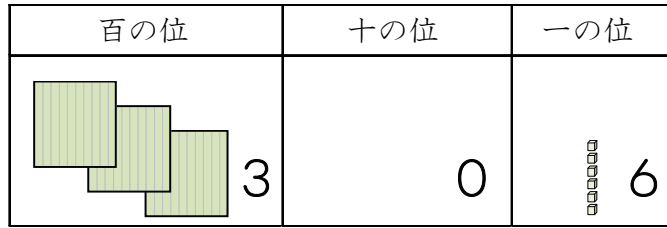
1 おさいふに306円入っています。128円のおかしを買くと、お金はいくらのこりですか。

式

筆算

答え _____

306-128の筆算のしかた



$$\begin{array}{r} 306 \\ - 128 \\ \hline 178 \end{array}$$

$$\begin{array}{r} 306 \\ - 128 \\ \hline \end{array}$$

位をそろえて書きます。

$$\begin{array}{r} 2106 \\ - 128 \\ \hline \end{array}$$

一の位 6-8はできな
十の位は0なので
かりられない。
百の位から十の位に
1くり下げて、十の位から
一の位に1くり下げる。

$$\begin{array}{r} 2106 \\ - 128 \\ \hline 178 \end{array}$$

一の位 16-8=8
十の位 9-2=7
百の位 2-1=1

答え 178

2 筆算でしましょう。

① 403-176

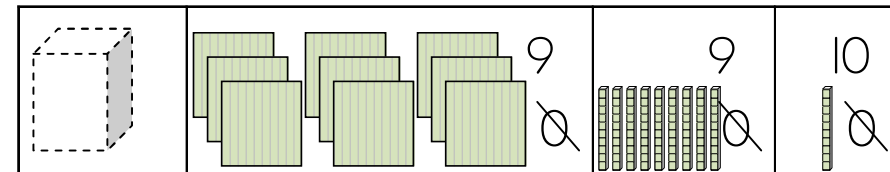
② 807-609

③ 200-185

3 525円の本を買います。1000円さつを出すと、おつりはいくらですか。

1000-525の筆算のしかた

千の位	百の位	十の位	一の位
1	0	0	0



$$\begin{array}{r} 9910 \\ - 525 \\ \hline \end{array}$$

$$\begin{array}{r} 1000 \\ - 525 \\ \hline \end{array}$$

千の位から
百、十、一の位に
じゅんにくり下げる

$$\begin{array}{r} 9910 \\ - 525 \\ \hline \end{array}$$

一の位 10-5
十の位 9-2
百の位 9-5

式

筆算

答え _____

4 筆算をしましょう。

①
$$\begin{array}{r} 1000 \\ - 374 \\ \hline \end{array}$$

②
$$\begin{array}{r} 1000 \\ - 53 \\ \hline \end{array}$$

③
$$\begin{array}{r} 1000 \\ - 698 \\ \hline \end{array}$$