

大きな数(4)

名前 _____

・「10倍」「100倍」

・10でわった数 月 日

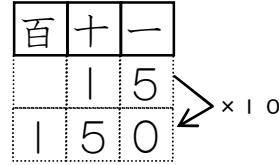
「大きな数」のプリントは「深大出版」

1 1に15円のチョコレートを買います。

① 10こ買うといくらになりますか。

$15 \times 10 =$

答え _____



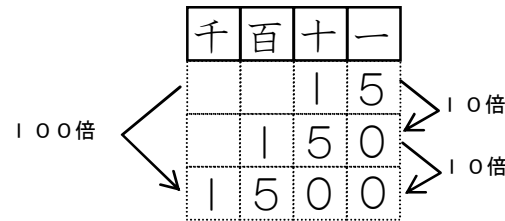
10倍 の中を書きましょう。

数を10倍すると、どの数も位が1つ上がり、もとの数の右に をつけた数になります。 れい $3 \times 10 = 30$ $20 \times 10 = 200$

② 100こ買うといくらになりますか。

$15 \times 100 =$

答え _____



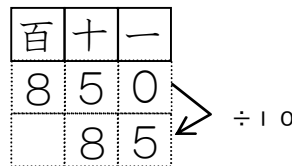
100倍

- ・ 数を100倍すると、どの数も位が2つ上がり、もとの数の右に をつけた数になります。
- ・ 100倍することは、10倍した数をさらに10倍することと同じです。

2 10本で850円のえん筆があります。このえん筆1本分はいくらですか。

$850 \div 10 =$

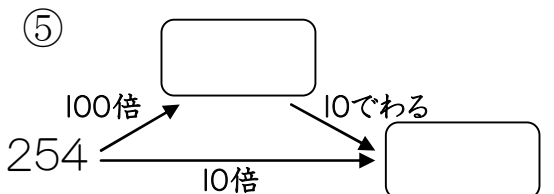
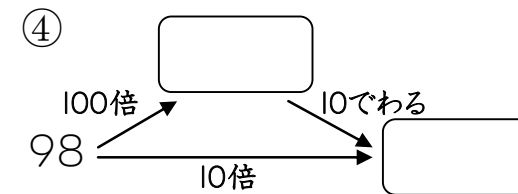
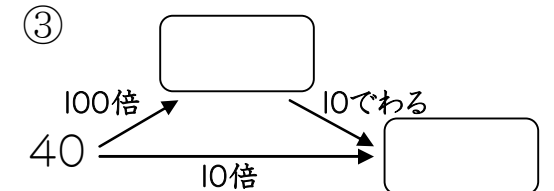
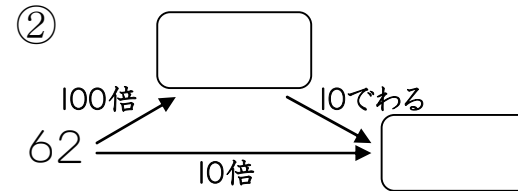
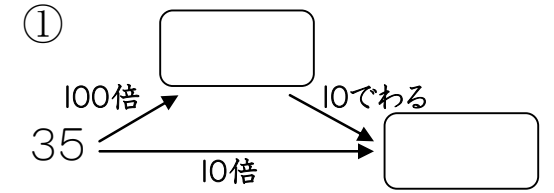
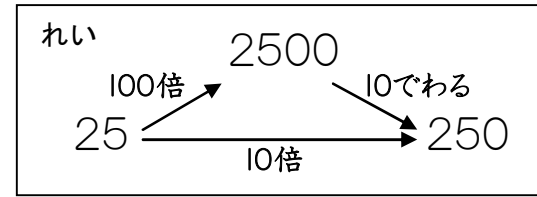
答え _____



÷10

一の位が0の数を10でわると、どの数字も位が1つ下がり、一の位の0をとった数になります。

3 にあてはまる数を書きましょう。



4 にあてはまる数や言葉を書きましょう。

① 750は を10倍した数です。

② 35を10倍した数は です。

③ を100倍した数は4200です。

④ 80000は を100倍した数です。

⑤ 240を10倍した数は で、 した数は24000です。