

円と球(3)

名前 _____
 ・球 _____
 ・まとめ _____ 月 日

「おぼ」のプリントは「深大出版」

1

球(きゅう)

□の中を書きましょう。

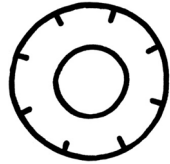
どこから見ても □ に見える形を、球きゅうといいます。

次の形の中で球はどれですか。

サッカーボール



タイヤ



野球やきゅうボール



バケツ



ビー玉



2

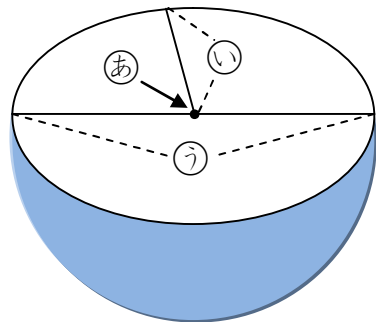
球(きゅう)

球のどこを切っても、切り口は □ になります。

球を半分に切ったとき、切り口の円はいちばん

□ くなります。

半分に切った球の切り口です。①、②、③はそれぞれ何ですか。



①

②

③

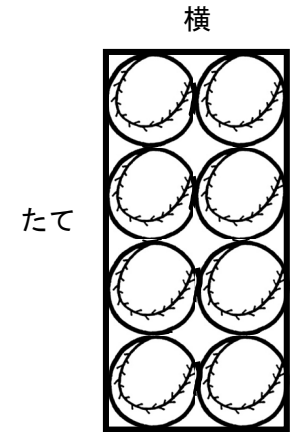
3

半径4cmのボールが8こ右のように入っているはこがあります。

このはこのたてと横の長さは何cmですか。

(はこは上から見たところです)

たての長さをもとめる式



横の長さをもとめる式

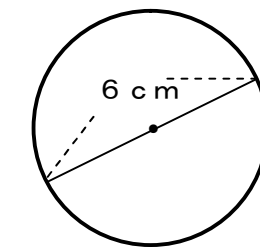
答え _____

答え _____

4

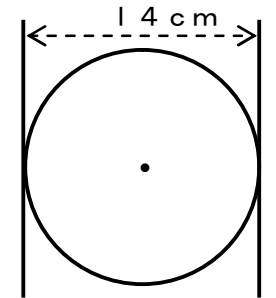
次の円の半径は何cmですか。

①



_____ cm

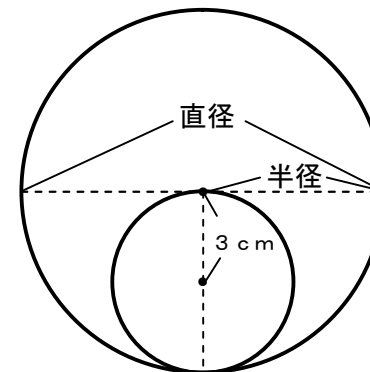
②



_____ cm

5

円が2つあります。大きな円の半径と直径は何cmですか。



半径 _____ cm

直径 _____ cm