



わり算(3)


名前 _____

・0や1のわり算
・何倍かをもとめる 月 日

「おぼえ」のプリントも「深大出版」

1 クッキーがあります。3人で同じ数ずつ分けると、1人分は何こですか。

① クッキーが6このとき。



 $6 \div 3 = \square$

② クッキーが3このとき。



 $3 \div 3 = \square$

③ 1こもないとき。


 $0 \div 3 = \square$


 わり算のきまり

0を、0でないどんな数でわっても、答えはいつも0です。


 わり算のきまり

わられる数とわる数が同じ数のとき、答えはいつも1です。

2 クッキーが4こあります。1人で全部食^{ぜんぶ}べると、何こ食べられますか。
式と答えを考えましょう。


 $\square \div \square = \square$

答え _____

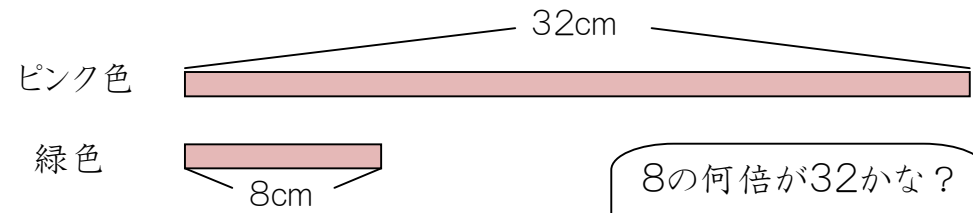
 わり算のきまり

わる数が1のとき、答えは
わられる数と同じ数になります。

3 わり算をしましょう。


- ① $5 \div 5$
- ② $0 \div 8$
- ③ $6 \div 1$
- ④ $0 \div 2$
- ⑤ $9 \div 1$
- ⑥ $9 \div 9$

4 ^{みどり}ピンク色のリボンの長さは32cm、^{みどり}緑色のリボンの長さは8cmです。
ピンク色のリボンは緑色のリボンの何倍の長さですか。



式 _____

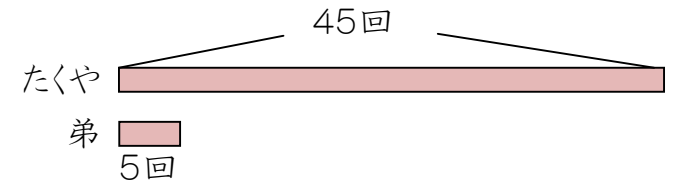
8の何倍が32かな？
 $8 \times \square = 32$



答え _____

5 たくやくんはなわとびで45回とびました。弟は5回とびました。
たくやくんは弟の何倍とびましたか。

式 _____



答え _____

6 \square の中にあてはまる数を書きましょう。

- ① 8は2の \square 倍
- ② 56は7の \square 倍
- ③ 24は3の \square 倍
- ④ 24は4の \square 倍
- ⑤ 6は \square の2倍
- ⑥ 72は \square の9倍
- ⑦ 32は \square の8倍
- ⑧ 30は \square の5倍