

わり算(1)

名前 _____

- ・わり算の意味
- ・計算

月 日

「わ」のひらがなを「わ」のふりがなで書くと「わ」になります。

1 おせんべいが18まいあります。6人で同じ数ずつ分けると、1人分は何まいですか。



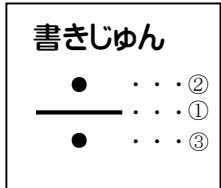
1人分の数をもとめるわり算 の中を書きましょう。

18まいのおせんべいを6人で同じ数ずつ分けると、1人分は まいです。

これを式にすると

わられる数 わる数 ^① $18 \div 6 = \square$ 「18 わる 6 は 」

このような計算を **わり算** といいます。



2 12このあめを3人で同じ数ずつ分けると、1人分は何こになりますか。

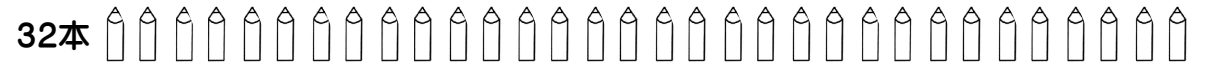
式



答え _____

3 32本のえん筆^{びつ}を4人で同じ数ずつ分けると、1人分は何本になりますか。


式



答え _____

4 14まいのおり紙を2人で同じ数ずつ分けると、1人分は何まいになりますか。

式



答え _____

5 わり算をしましょう。

- | | |
|----------|----------|
| ① 15 ÷ 3 | ② 36 ÷ 9 |
| ③ 27 ÷ 3 | ④ 48 ÷ 8 |
| ⑤ 63 ÷ 7 | ⑥ 24 ÷ 4 |
| ⑦ 40 ÷ 5 | ⑧ 16 ÷ 2 |
| ⑨ 25 ÷ 5 | ⑩ 28 ÷ 7 |