

かけ算の筆算(2)

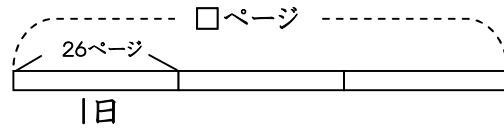
名前 _____

・かけ算の筆算
(くり上がり1回)

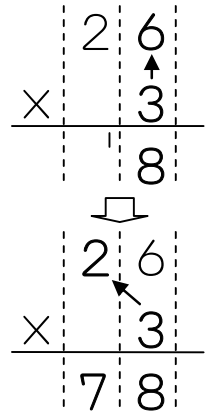
月 _____ 日 _____

1 さとくんは毎日26ページ本を読んでいます。3日間では何ページになりますか。

式



26×3の筆算のしかた



・まず「三六 18」
8を一の位に書き
1を十の位にくり上げる

・次に「三二が6」
くり上げた1をたして7
7を十の位に書く

筆算

答え _____

2 筆算をしましょう。

①

	2	4
×		3

②

	1	5
×		3

③

	3	8
×		2

④

	4	7
×		2

⑤

	1	8
×		5

⑥

	2	4
×		4

3 筆算でしましょう。

① 25 × 3

② 13 × 4

③ 36 × 2

④ 19 × 5

⑤ 27 × 3

⑥ 46 × 2

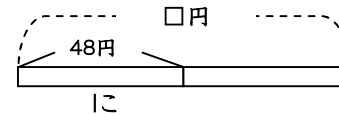
⑦ 23 × 4

⑧ 38 × 2

4 に48円のおまんじゅうを2に買います。代金はいくらですか。

式

筆算

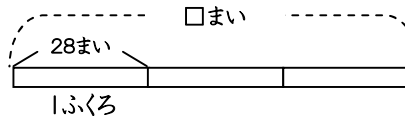


答え _____

5 28まい入りのおり紙のふくろが3ふくろあります。全部で何まいですか。

式

筆算



答え _____