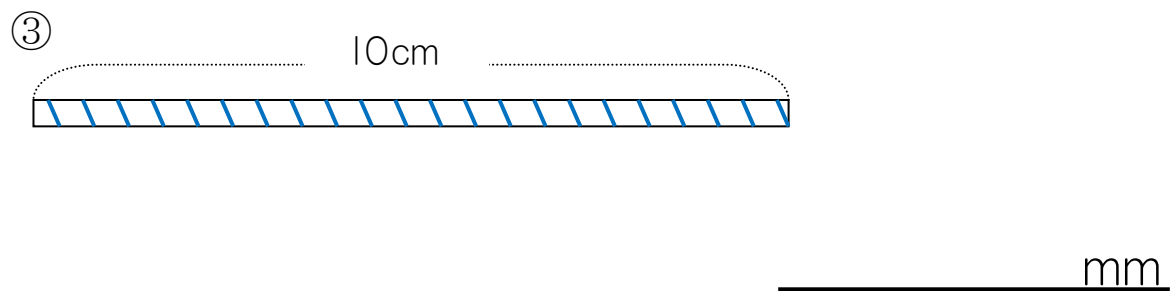
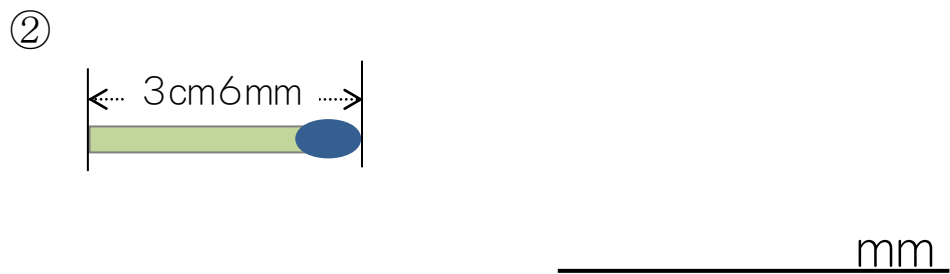
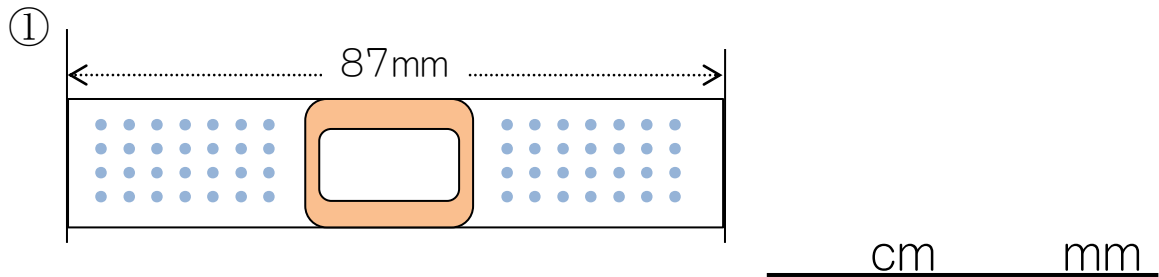


1 下のものの長さのたんいをかえましょう。



2 □にあてはまる数を書きましょう。

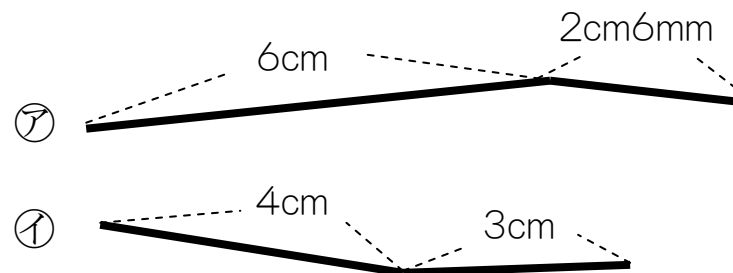
- ① 3cm = □ mm ② 5cm = □ mm
 ③ 2cm 3mm = □ mm ④ 6cm 5mm = □ mm

なまえ _____

3 □にあてはまる数を書きましょう。

- ① 70mm = □ cm
 ② 39mm = □ cm □ mm
 ③ 94mm = □ cm □ mm
 ④ 2cmと 5cmをあわせると □ cm。
 ⑤ 8mmは あと □ mmで 1cm。

4



① ①と②の線の長さをたし算でもとめましょう。

① □ cm + □ cm □ mm = □ cm □ mm

② □ cm + □ cm = □ cm

② どちらの線がどれだけ長いですか。

□ cm □ mm - □ cm = □ cm □ mm