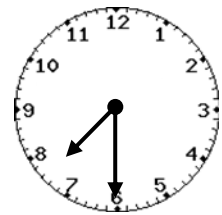


8 時間と時こく (2)

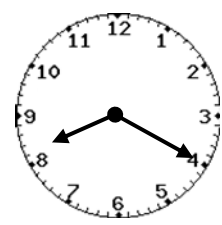
月 日
 午前、午後

1 とけい 時計の ごぜん 時こくを ごご 午前、午後を つかって 答えましょう。

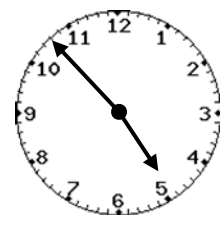
① おきた 時こく



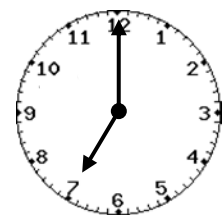
② 学校に ついた 時こく



③ か 買い物に 出かけた 時こく

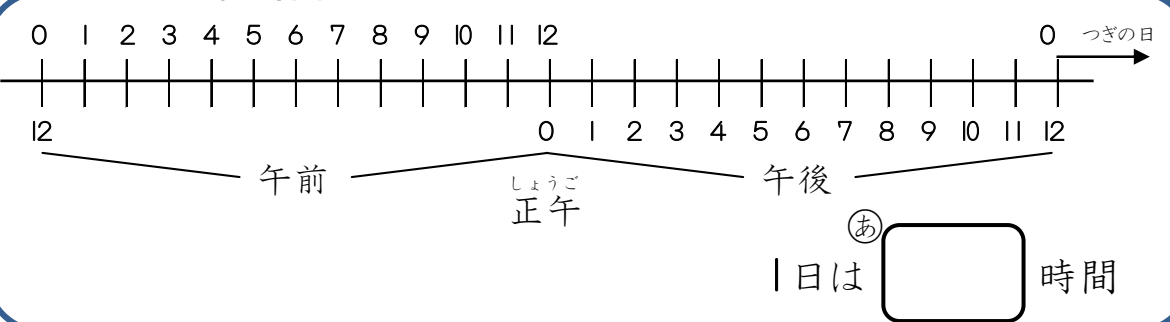


④ ばんごはんの 時こく





1 日は何時間? □に数を書きましょう。



なまえ _____

2 時計を 見て 時こくを 書きましょう。また、それぞれの まえ 30分前、あと 30分後の 時こくも 書きましょう。

① 時計の時こく

30分前 □ 時 □ 分 30分後 □ 時 □ 分

② 時計の時こく

30分前 □ 時 □ 分 30分後 □ 時 □ 分

3 □ に あてはまる 数 を 書きましょう。

- ① 1日 = □ 時間 ② 1時間 = □ 分
- ③ 90分 = □ 時間 □ 分 ④ 1時間 20分 = □ 分

4 それぞれの 時こくを 午前、午後を つかって 書きましょう。

- ① あなたが ゆうべ ねた 時こく _____
- ② あなたが けさ おきた 時こく _____
- ③ あなたが けさ 家を出た 時こく _____
- ④ 今の 時こく _____