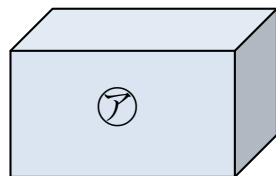
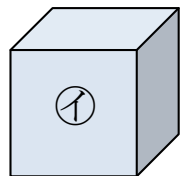


1 ① 下のはこの、㊦のところはどんな四角形ですか。

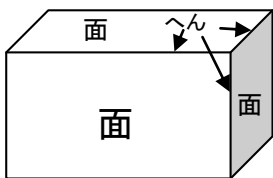


② 下のはこの、㊦のところはどんな四角形ですか。

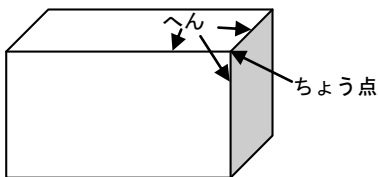




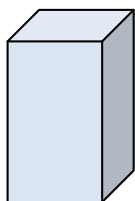
はこの形で ㊦や㊦のように
たいらなところを ^{めん}面と いい、
面と面のさかいになっている
直線のことを ^{へん}へんと いいます。



3本のへんがあつまったところを
ちょう点と いいます。



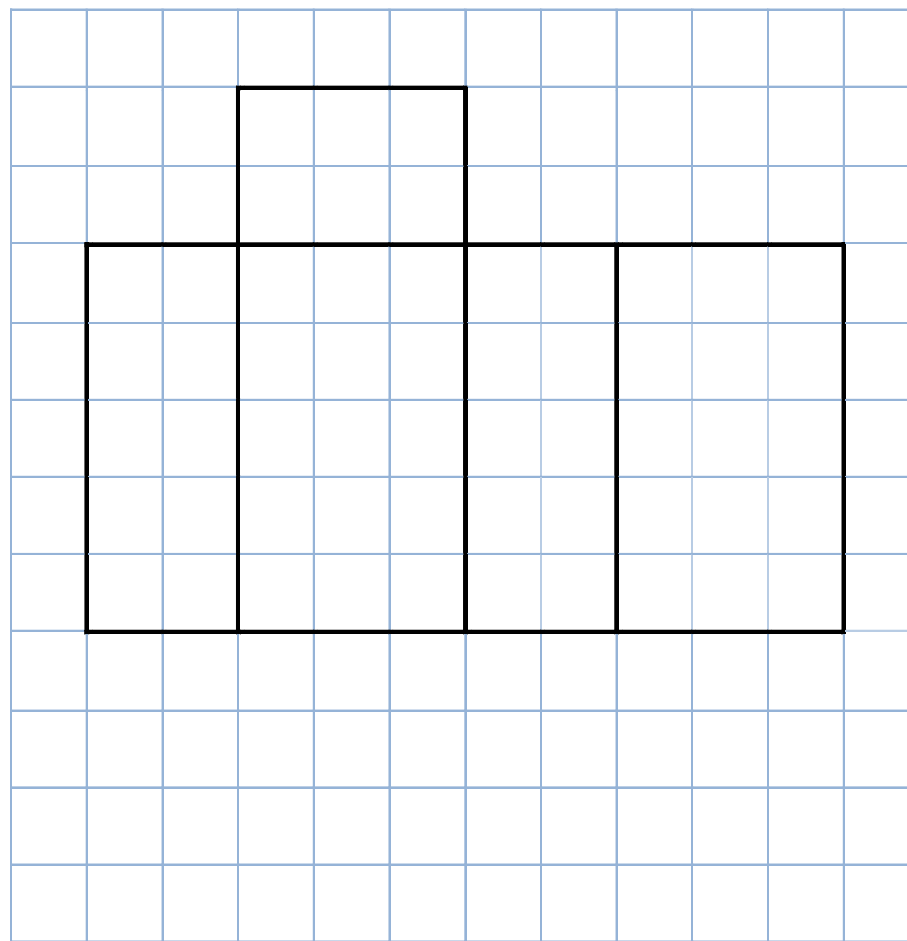
2 下のはこの形には面、へん、ちょう点は、それぞれいくつ
ありますか。数をひょうに書きましょう。



面	つ
へん	本
ちょう点	つ

なまえ _____

3 下の図をつかってはこを作ろうと思いましたが、
面が1つたりません。図の中に面を1つかきたして
かんせいさせましょう。(答えはいくつかあります。)



4 下の図を組み立てると、どのはこができますか。

