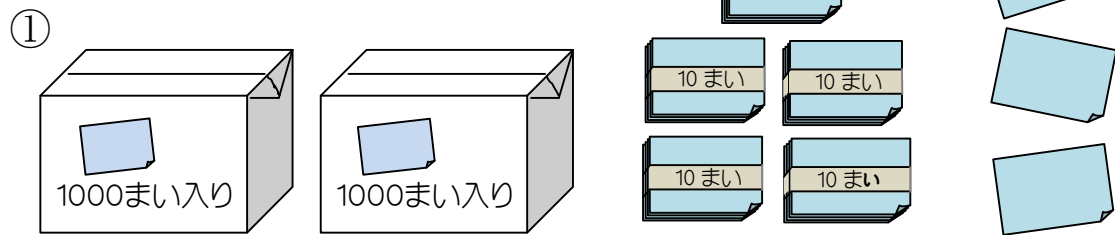


1 紙は 何まい ありますか。



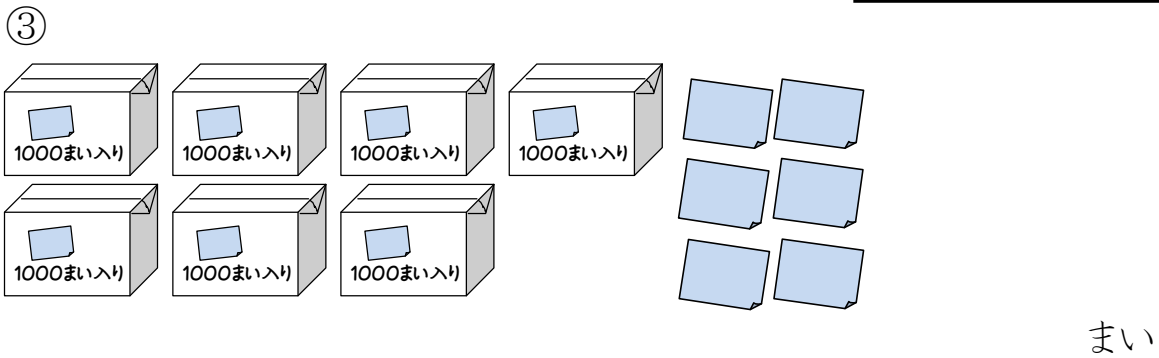
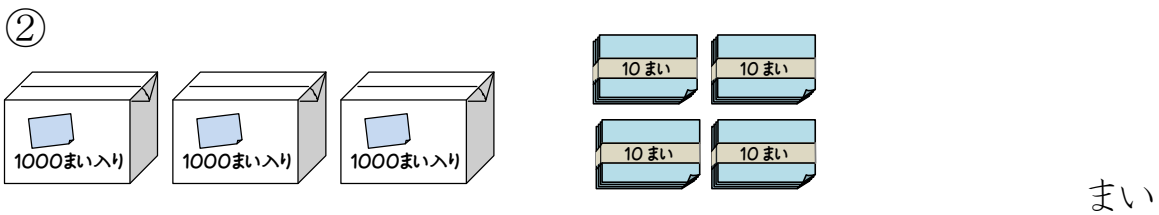
千の たばが たば、百の たばは なし、

十の たばが たば、ばらが まい。

千のくらい	百のくらい	十のくらい	一のくらい

数を書きましょう。

まい



なまえ _____

2 つぎの 数を 数字で 書きましょう。

① 五千七百二十三

② 七千三百八

③ 千八百

④ 九千一

3 の 中 に あてはまる 数を 書きましょう。

① 5027は 1000を こ、10を こ、1を こあわせた 数です。

② 8090は 1000を こ、10を こあわせた 数です。

③ 千のくらいが4、百のくらいが1、十のくらいが5、一のくらいが8の数は です。

4 つぎの 数を 数字で 書きましょう。

① 1000を 6こ、100を 4こ、10を 5こ、1を 8こ あわせた 数。

② 1000を 3こと 10を 2こ あわせた 数。

③ 100を 40こ あつめた 数。
