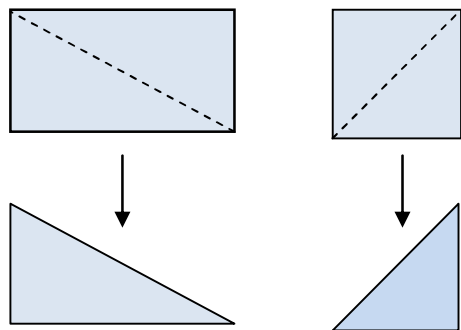


39 三角形と 四角形(3)

月 日
直角三角形

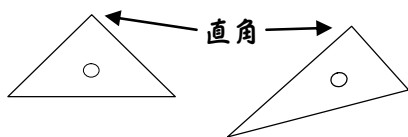
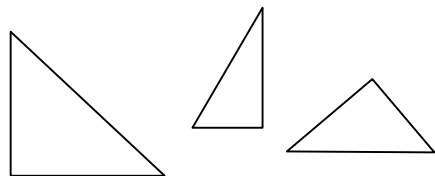
1 長方形や 正方形の 紙を、
右の ように 点線の ところで
切ります。



かどの 形に 直角は ありますか。



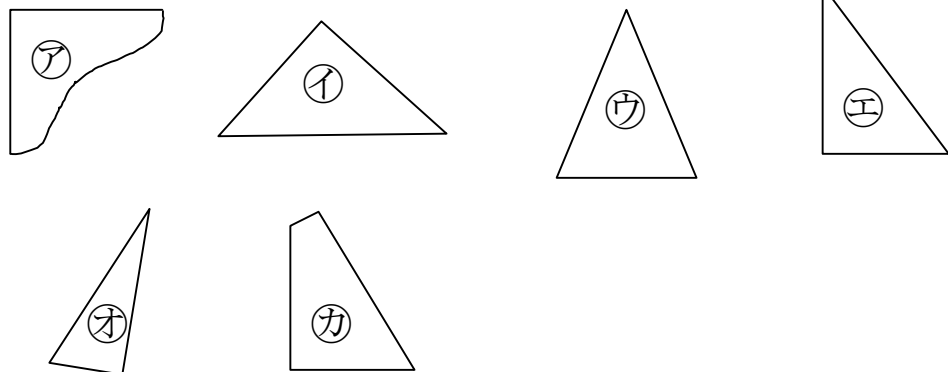
直角の かどのある 三角形を、
ちよつかくさんかくけい
直角三角形 と いいます。



三角じょうぎも
直角三角形だよ。



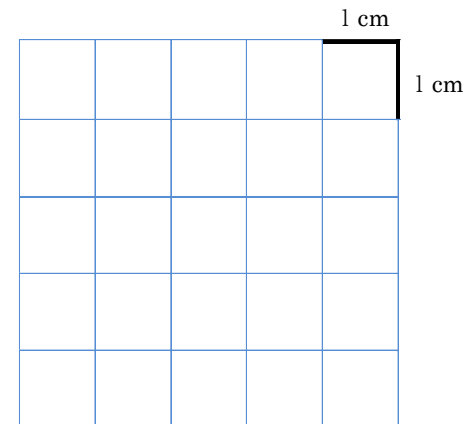
2 三角じょうぎを つかって 直角三角形を さがしましょう。




なまえ _____

3 いろいろな 形を かきましょう。

① 1つの へんの 長さが
3cmの 正方形。



② たてが 3cm、よこが 2cmの
長方形。



③ 直角を 作る 2つの へんが
2cmと 4cmの 直角三角形。

