


1 1ふくろに くりが 7こずつ 入っています。この ふくろが、
5ふくろ あると、くりは ぜんぶで 何こに なりますか。




しき $\square \times \square = \square$

1ふくろ分の くりの数 ふくろの数 ぜんぶの くりの数

答え _____

2 1へやに 子どもが 7人ずつ います。2へや分では 何人に なりますか。

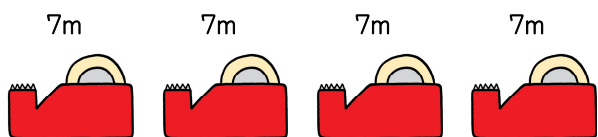


しき $\square \times \square = \square$

1へや分の 子どもの数 へやの数 ぜんぶの 子どもの数

答え _____

3 1まきが 7mの テープが あります。4まき分では テープは 何mに なりますか。



しき $\square \times \square = \square$

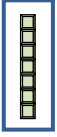
1まき分の テープの長さ テープの数 ぜんぶの テープの長さ

答え _____

なまえ _____

4 しきが 7×3 に なる 文しょうもんだいを 作りましょう。

1さらに りんごが \square ①こずつ あります。② \square さら分では りんごは 何こに なりますか。

5 1はこに チョコレートが 7こずつ 入っています。
ぜんぶの チョコレートの 数をもとめましょう。(7のだんの 九九)

1はこ分	$7 \times 1 = \square$	しちいち 七一が \square	
2はこ分	$7 \times 2 = \square$	しちに 七二 \square	
3はこ分	$7 \times 3 = \square$	しちさん 七三 \square	
4はこ分	$7 \times 4 = \square$	しちし 七四 \square	
5はこ分	$7 \times 5 = \square$	しちご 七五 \square	
6はこ分	$7 \times 6 = \square$	しちろく 七六 \square	
7はこ分	$7 \times 7 = \square$	しちしち 七七 \square	
8はこ分	$7 \times 8 = \square$	しちは 七八 \square	
9はこ分	$7 \times 9 = \square$	しちく 七九 \square	