


かけ算(4)

月 日
かけ算の意味
4のだんの九九

1 パックに えびが 4ひきずつ あります。この パック 3つ分では えびは 何ひきに なりますか。




しき $\square \times \square = \square$

1パック分の えびの数 パックの数 ぜんぶの えびの数

答え _____

2 1ふくろに おせんべいが 4まいずつ 入っています。6ふくろ分では おせんべいは 何まいに なりますか。




しき $\square \times \square = \square$

1ふくろ分の せんべいの数 ふくろの数 ぜんぶの せんべいの数

答え _____

なまえ _____

3 赤とんぼの はねは、1ぴきにつき 4まいです。5ひき分では はねの 数は 何まいですか。






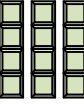






とんぼは、1とう、2とう、3とう・・・と 数えること もあります。

しき $\square \times \square = \square$

1ひき分の はねの数 とんぼの数 ぜんぶの はねの数

答え _____

4 1はこに チョコレートが 4こずつ 入っています。  ぜんぶの チョコレートの 数をもとめましょう。(4のだんの 九九)

| | | |
|------|------------------------|--|
| 1はこ分 | $4 \times 1 = \square$ | しいち 四一が  |
| 2はこ分 | $4 \times 2 = \square$ | しに 四二が  |
| 3はこ分 | $4 \times 3 = \square$ | しさん 四三  |
| 4はこ分 | $4 \times 4 = \square$ | しし 四四  |
| 5はこ分 | $4 \times 5 = \square$ | しご 四五  |
| 6はこ分 | $4 \times 6 = \square$ | しろく 四六  |
| 7はこ分 | $4 \times 7 = \square$ | ししち 四七  |
| 8はこ分 | $4 \times 8 = \square$ | しは 四八  |
| 9はこ分 | $4 \times 9 = \square$ | しく 四九  |