

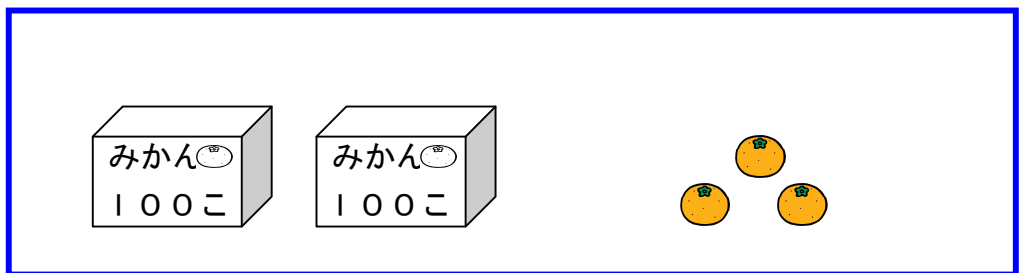
# 3

## 1000 までの数(3)

月 日

3けたの数の  
あらわしかた

1 みかんが <sup>なん</sup> 何こ あるか しらべましょう。



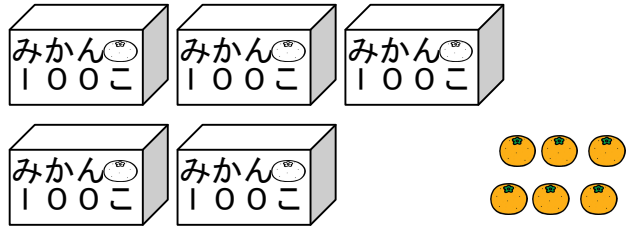
100のまとまりが  10のまとまりが  ばらが

かず か  
数を書きましょう →

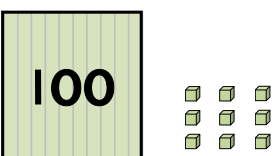
百のくらい	十のくらい	一のくらい
	0	

よみかた <sup>にひゃくさん</sup> 二百三 こ

2 ① みかんは 何こ ありますか。

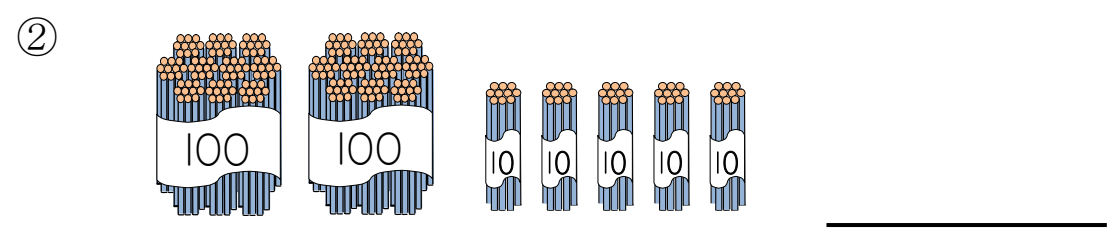
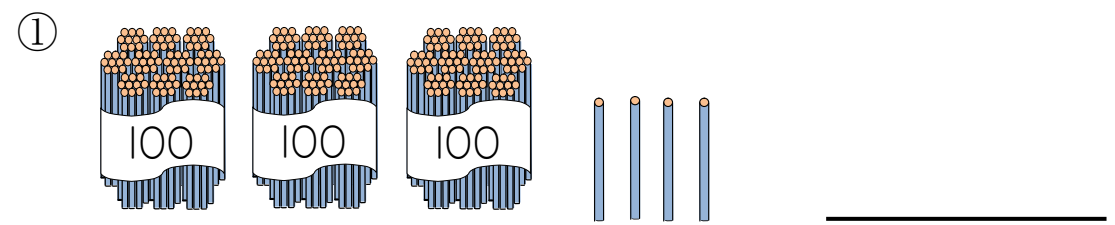


② ブロックは 何こ ありますか。



なまえ \_\_\_\_\_

3 えんぴつは 何本 ありますか。



4 つぎの <sup>かず</sup> 数を <sup>すうじ</sup> 数字で <sup>か</sup> 書きましょう。

①	②	③
二百	四百八十	九百四
_____	_____	_____

5 つぎの 数を かん字で 書きましょう。

- ① 246 \_\_\_\_\_
- ② 503 \_\_\_\_\_
- ③ 470 \_\_\_\_\_