


# 25 たしざんと ひきざん(1)


月 日  
文しょうを  
図にあらわす

こうえんに 子どもが 25人 います。男の子が 15人、  
女の子が 10人 います。

文しょうを 図で かくと こうなります。



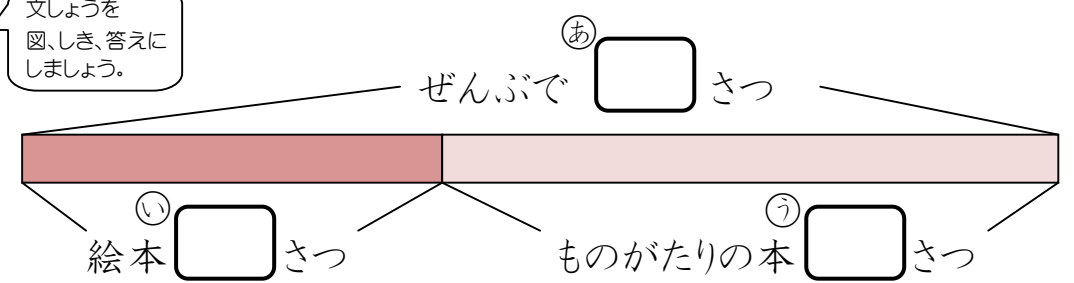
でも、子どもの 絵を いつも かくのは たいへんですね。  
絵は かくて ありませんが、下の図でも ようすが すぐ わかります。



□に数を書きましょう。

1 絵本が 24さつ、ものがたりの本が 35さつ あります。  
ぜんぶで 何さつ ありますか。

文しょうを  
図、しき、答えに  
しましょう。



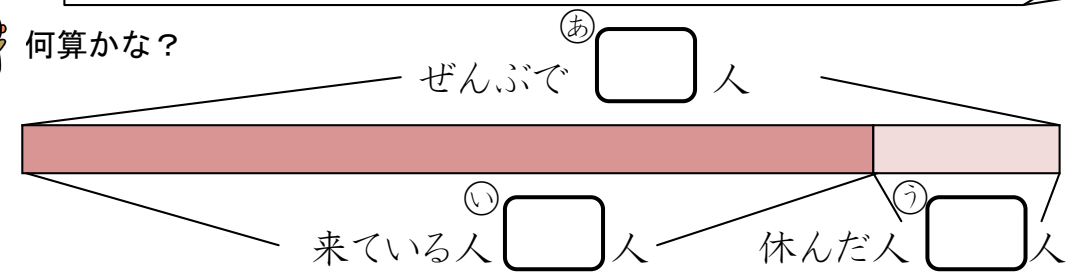
しき  
[ ]

答え

なまえ \_\_\_\_\_

2 まゆみさんの クラスの 人数は ぜんぶで 32人です。  
今日は 27人 来ています。休んだ 人は 何人ですか。

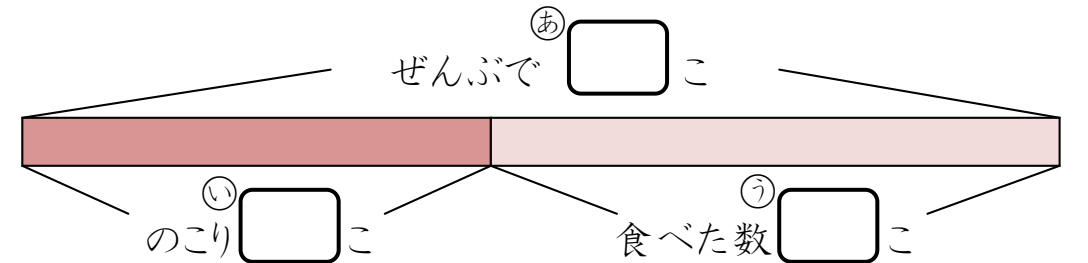
何算かな？



しき  
[ ]

答え

3 みかんが 20こ あります。弟と いくつか 食べたので、  
のこりが 9こに なりました。食べた 数は いくつですか。



しき  
[ ]

答え

4 色紙が 5まい あります。10まい 買いました。  
ぜんぶで 何まいに なりましたか。

図を かきましょう。

[ ]