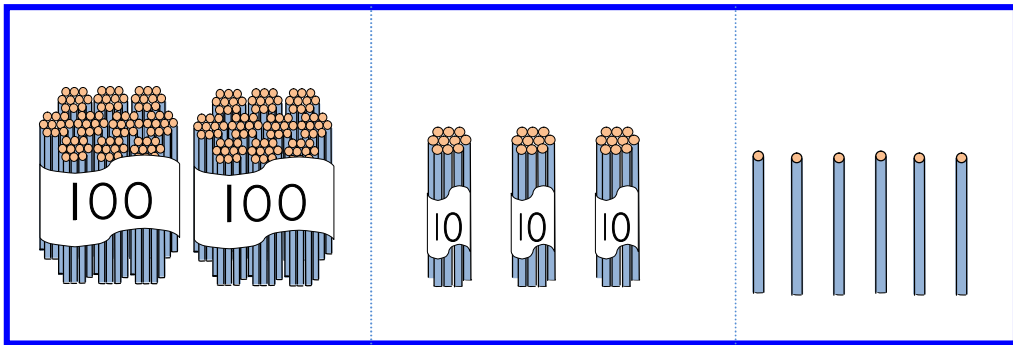


2

1000 までの数(2)

月 日
3けたの数の
あらわしかた

1 えんぴつが ^{なん}何本 あるか しらべましょう。



100のまとまりが 10のまとまりが ばらが

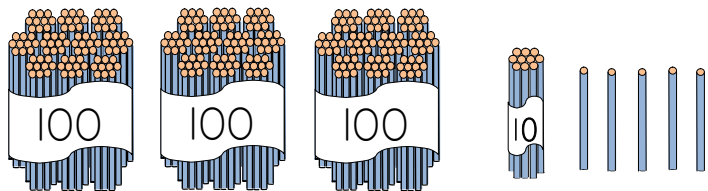
かず か
数を書きましょう →

百のくらい	十のくらい	一のくらい

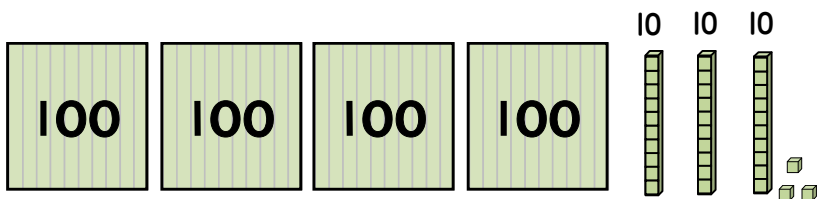
よみかた ^{にひゃくさんじゅうろく}二百三十六

本

2 ① えんぴつは ^{なん}何本 ありますか。



② ブロックは ^{なん}何こ ありますか。



たんいを
書いてね



なまえ

3 ^{なん}何円ですか。



4 つぎの ^{かず}数を ^{すうじ}数字で ^か書きましょう。

① 七百と 二十と 六を あわせた 数。

② 百と 五十と 八を あわせた 数。

③ 100を 5こ、10を 3こ、1を8こ
あわせた 数。