



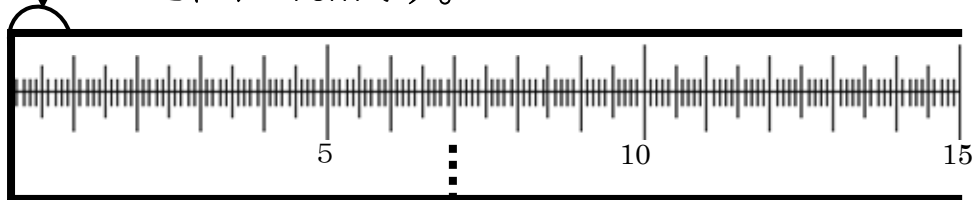
1 下の くぎの ^{なが}長さは どれだけですか。



くぎの長さは? □に数を書きましょう。

長さを あらわす たんに cm (センチメートル)が あります。

これが 1cmです。



くぎの 長さは 1cmの 7に分 なので □ cmです。

2 ものさしを つかって つぎの 長さの まっすぐな ^{せん}線を ひきましょう。

① 3cm

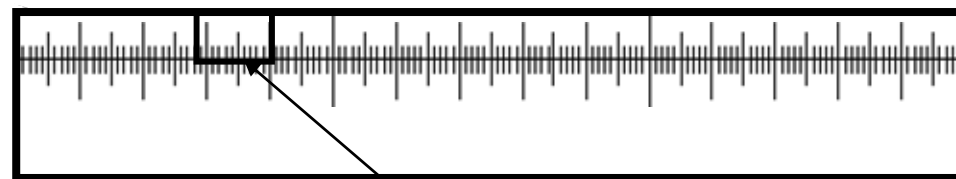
② 6cm

③ 10cm

なまえ _____

ミリメートル

ものさしは 1cmを さらに こまかく 分けて あります。
1cmを 同じ 長さおなに 10に 分けた 1つ分の 長さを
1mm(1ミリメートル)と いいます。



1 cm = 10 mm

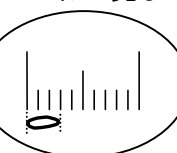
これが 1mmです。

3 何mmですか。



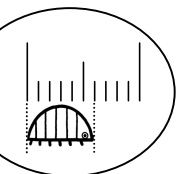
虫めがねで見ました。

①



_____ mm

②



_____ mm

4 ものさしを つかって つぎの 長さの まっすぐな ^{せん}線を ひきましょう。

① 4cm5mm

② 8cm3mm