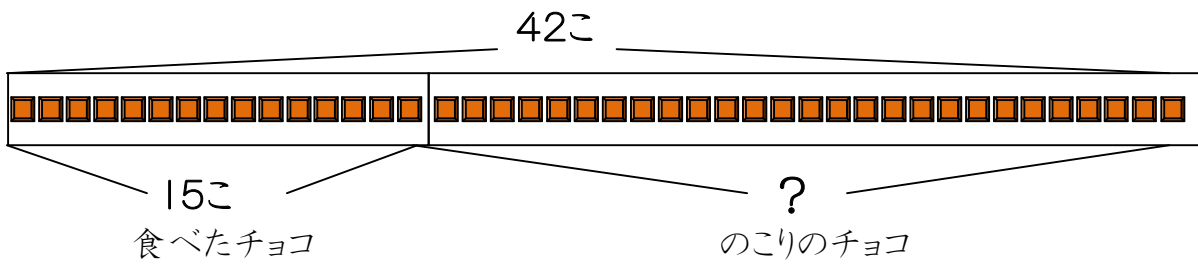


14 ひき算の ひっ算(2)

月 日
2けた-2けた
(くり下がりあり)

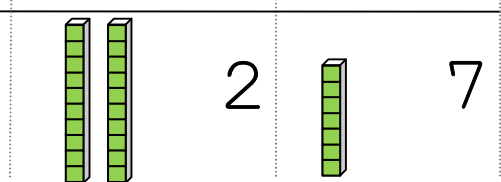
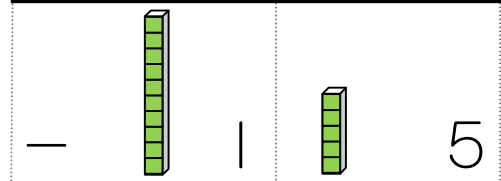
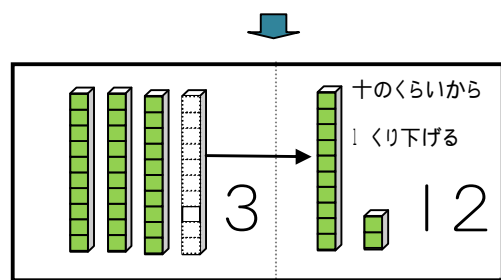
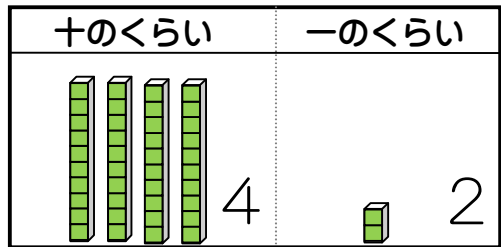
1 チョコレートが 42こ ありました。そのうち 15こ 食べました。
のこりは 何こに なりましたか。



しきを 書きましょう。

_____ 答え

42-15の ひっ算のしかた



$$\begin{array}{r} 42 \\ - 15 \\ \hline \end{array}$$

$$\begin{array}{r} 3 \quad 4 \quad 2 \\ - 1 \quad 5 \\ \hline 27 \end{array}$$

$$\begin{array}{r} 3 \quad 4 \quad 2 \\ - 1 \quad 5 \\ \hline 27 \end{array}$$

・一のくらいは
2-5なので
できません。
十のくらいから
1くり下げて
12-5=7

・十のくらいは
3-1=2

・42-15=27
になります。

3や1などの ほじよの数字は、
ひっ算に なれるまで 書きましょう。

なまえ _____

2 ひっ算を しましょう。

①	②	③	④
$\begin{array}{r} 63 \\ - 28 \\ \hline \end{array}$	$\begin{array}{r} 72 \\ - 29 \\ \hline \end{array}$	$\begin{array}{r} 46 \\ - 17 \\ \hline \end{array}$	$\begin{array}{r} 61 \\ - 34 \\ \hline \end{array}$

3 ひっ算で しましょう。

① 75-46	② 50-32	③ 70-64	④ 93-85
$\begin{array}{r} 75 \\ - 46 \\ \hline \end{array}$	$\begin{array}{r} 50 \\ - 32 \\ \hline \end{array}$	$\begin{array}{r} 70 \\ - 64 \\ \hline \end{array}$	$\begin{array}{r} 93 \\ - 85 \\ \hline \end{array}$
⑤ 63-7	⑥ 58-9	⑦ 31-8	⑧ 40-7
$\begin{array}{r} 63 \\ - 7 \\ \hline \end{array}$	$\begin{array}{r} 58 \\ - 9 \\ \hline \end{array}$	$\begin{array}{r} 31 \\ - 8 \\ \hline \end{array}$	$\begin{array}{r} 40 \\ - 7 \\ \hline \end{array}$

4 めだかが 34ひき、^{きんぎょ}金魚が 27ひき います。ちがいは
何ひきですか。



しき

ひっ算

答え