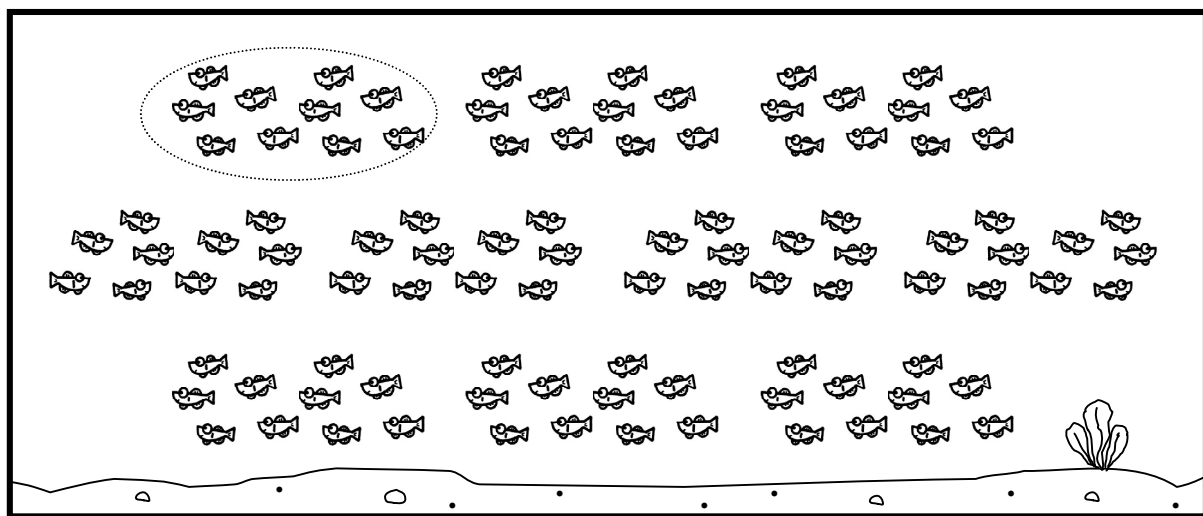




# 1000 までの数(1)

月 日  
100と200

1 水そうを あらうので メダカの <sup>かず</sup> 数を かくにんします。



① 10ぴき ずつ ○で かこんで まとまりを つく 作りましょう。

② 10ぴき ずつの まとまりが  こ できます。

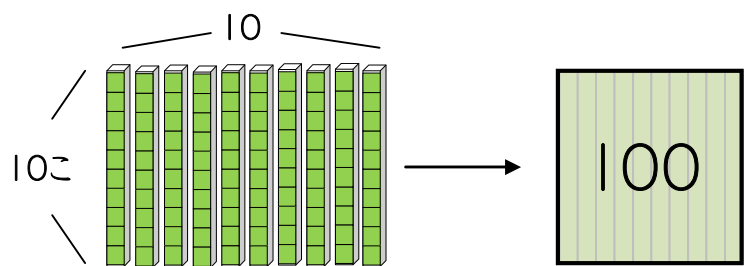
③ メダカの <sup>かず</sup> 数は ぜんぶで  ぴきです。

## 10がいくつで100?



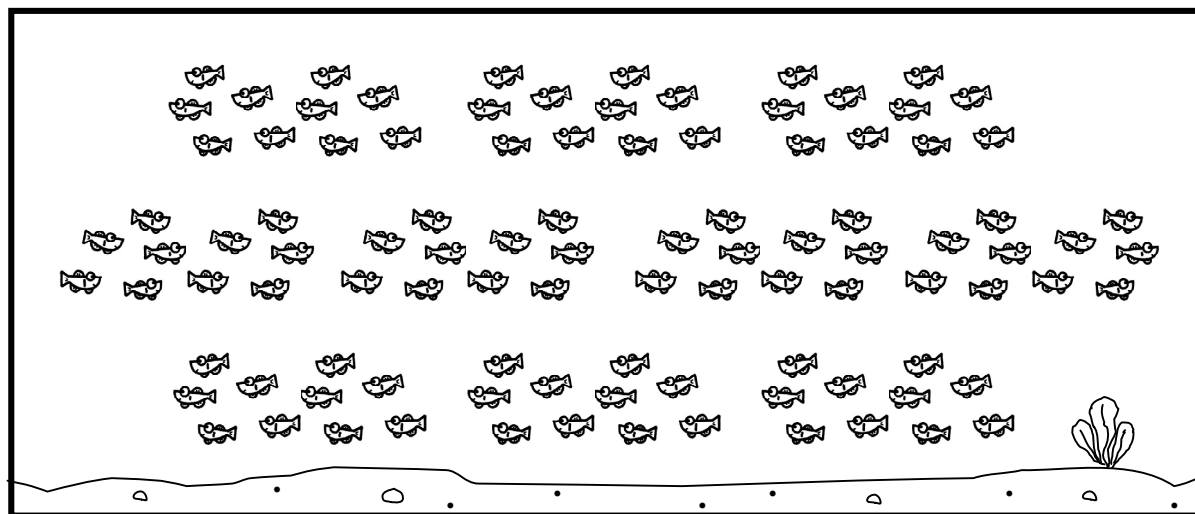
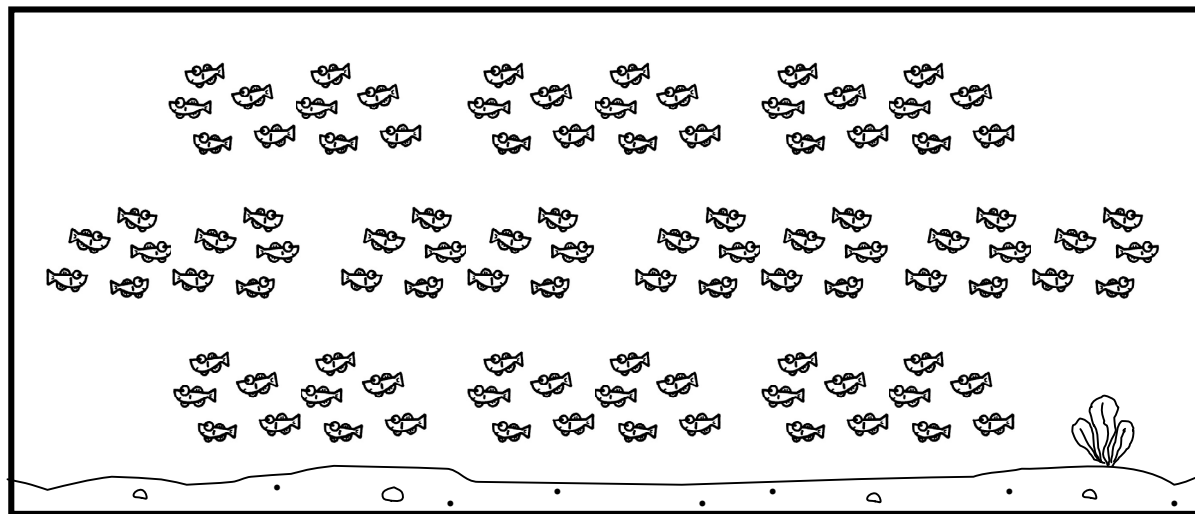
ブロックで見てみよう

10この まとまりが 10で <sup>ひゃく</sup> 百 → 100



なまえ

2 メダカ 100ぴきの 水そう 2つでは、ぜんぶで <sup>なん</sup> 何ぴきですか。



① 100の まとまりが 2こで  です。

② メダカの 数は ぜんぶで  ぴきです。

## 100がいくつで200?



100この まとまりが 2つで

<sup>にひゃく</sup> 二百 → 200

