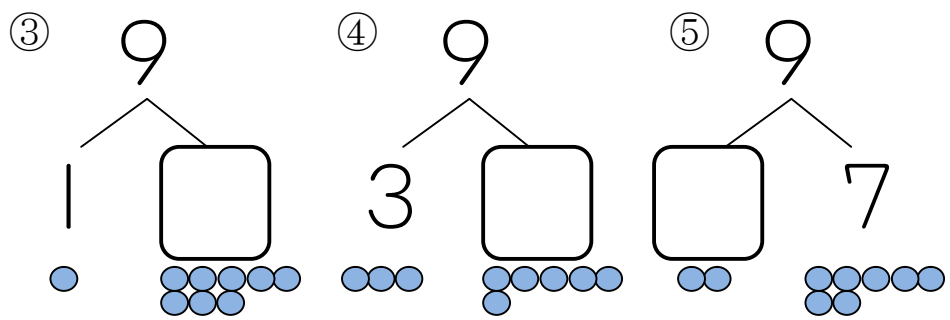
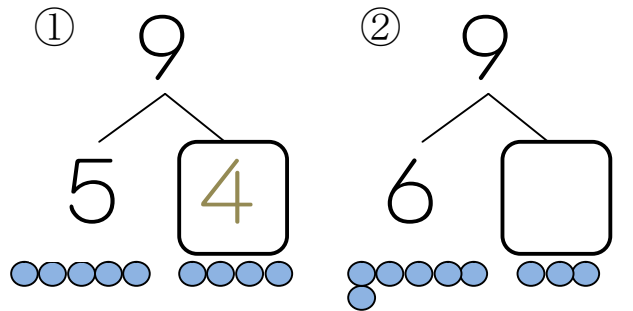
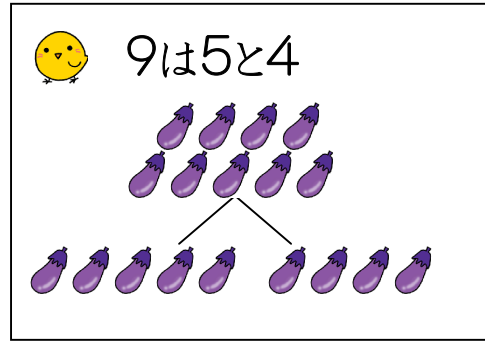




いくつといくつ(2)

がつ にち
9、10は
いくつといくつ

1 9は いくつと いくつですか。 □ に かずを かきましょう。

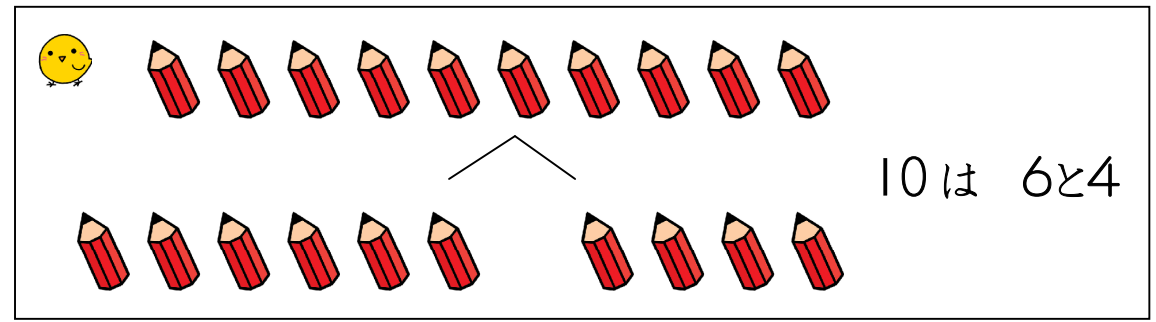


2 □ に かずを かきましょう。

- ① 5は 2と □
- ② 7は □ と 2
- ③ 6は 3と □
- ④ 9は □ と 5
- ⑤ 8は 7と □
- ⑥ 7は □ と 6
- ⑦ 5は 1と □
- ⑧ 8は □ と 5

なまえ

3 10は いくつと いくつですか。 □ に かずを かきましょう。



- ① 10は 9 と □
- ② 10は 8 と □
- ③ 10は □ と 3
- ④ 10は 6 と □
- ⑤ 10は 5 と □
- ⑥ 10は □ と □
- ⑦ 10は □ と □
- ⑧ 10は □ と □
- ⑨ 10は □ と □

