

1

いくつと いくつですか。

①  $10 = 2 + \square$       ②  $13 = 7 + \square$       ③  $17 = 8 + \square$


2

けいさんを しましょう。

①  $7 + 2 = \square$     ②  $4 + 9 = \square$     ③  $8 + 7 = \square$   
 ④  $10 - 6 = \square$     ⑤  $5 - 2 = \square$     ⑥  $9 - 0 = \square$   
 ⑦  $14 - 5 = \square$     ⑧  $18 - 9 = \square$     ⑨  $8 - 8 = \square$

3

きょうりゅうは なんとつ いますか。10とうずつ ○で かこんで かぞえましょう。

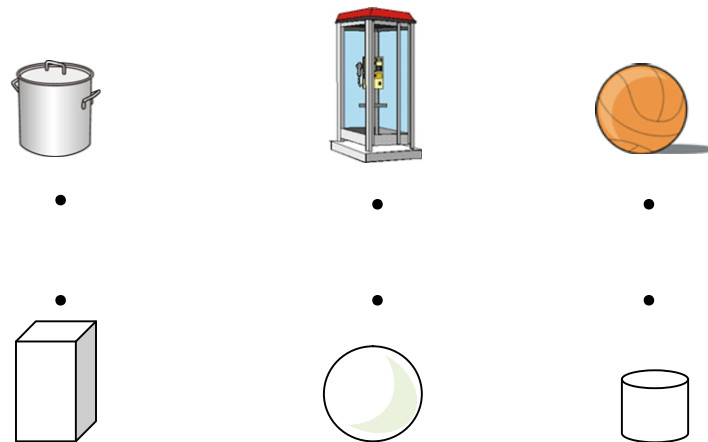


こたえ \_\_\_\_\_

なまえ \_\_\_\_\_

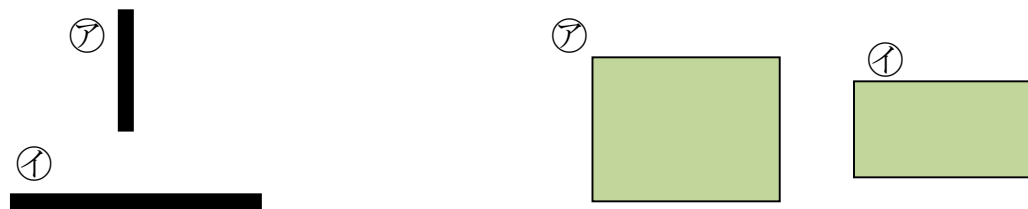
4

にている かたちを せんで おすびましょう。



5

① どちらが ながいですか。 ② どちらが ひろいですか。



6

いちばん <sup>ちい</sup>小さい かずと、いちばん 大きい かずは なんですか。

99, 86, 29, 73, 32, 84, 100, 67, 30, 52, 102, 48, 28, 31

小さい \_\_\_\_\_ 大きい \_\_\_\_\_

7

□にはいる かずを かきましょう。

②は すこし むずかしいよ わかるかな?

① — 99 — □ — 105 — □ — 111 — 114 — □ —  
 ② — □ — 26 — □ — 18 — □ — □ — 6 —

