




# 大きさくらべ


月 日  
ながさ、ひろさ、大きさを  
くらべる

1 どちらの ペンが ながいですか。



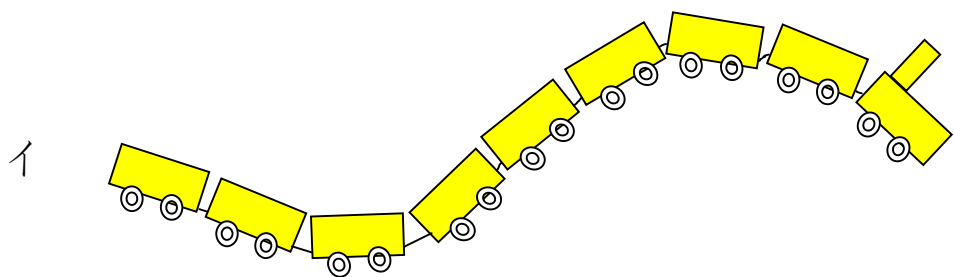
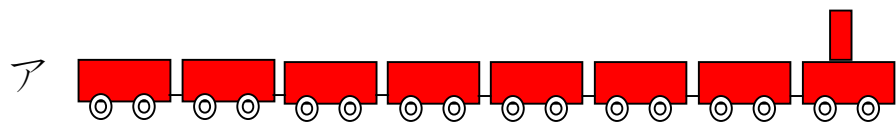
こたえ \_\_\_\_\_

2 どの ぼうが いちばん ながいですか。



こたえ \_\_\_\_\_

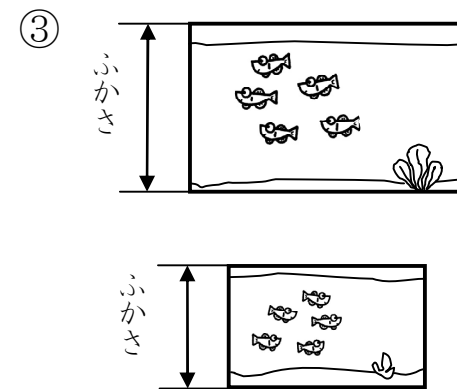
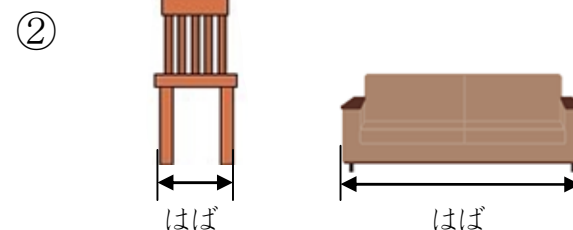
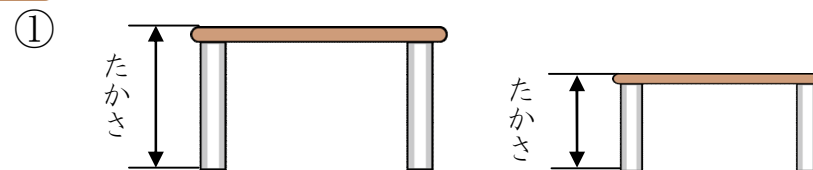
3 どちらの れっしゃが ながいですか。



こたえ \_\_\_\_\_

なまえ \_\_\_\_\_

4 ながい ほうを ○で かこみましょう。



5 おお 大きい ほう、 ひろい ほうを ○で かこみましょう。

① ボールの大きさ




② かみのひろさ



6 つぎの ながさに なるように  に いろを ぬりましょう。

① 3つぶんの ながさ。



② 6つぶんの ながさ。

