

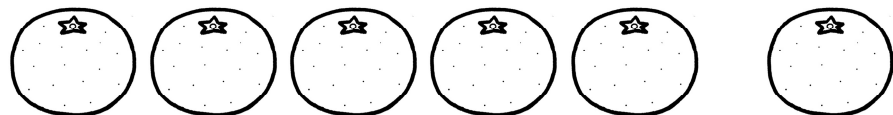


10までの かず(4)

がつ 日にち

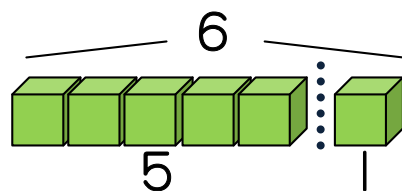
ろく しち
6、7

1 みかんに いろをぬりましょう。



みかんの かずは ^{ろく}6 です。

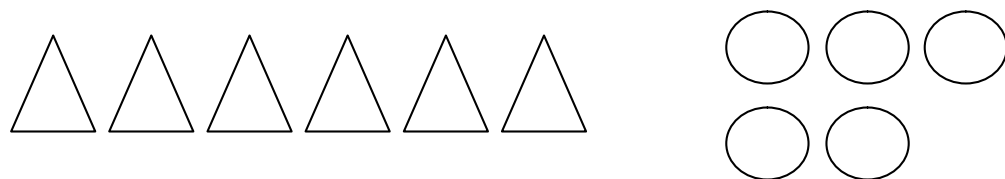
5と1で6になります。



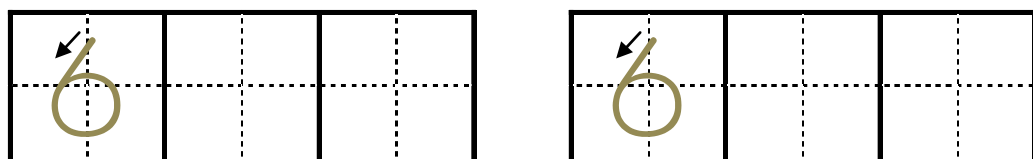
2 □ の なかに りんごを 6こ かきましょう。 ○ りんご



3 かずが 6の ほうに いろをぬりましょう。




4 6の れんしゅうを しましょう。



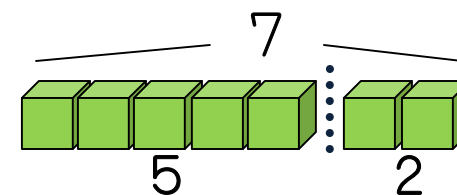
なまえ _____

5 はなに いろをぬりましょう。




はなの かずは ^{しち}7 です。

5と2で7になります。



6 □ の なかに りんごを 7こ かきましょう。



7 ゆびの かずが 7の ほうを ○で かこみましょう。



8 7の れんしゅうを しましょう。

