





たすのかな ひくのかな(1)

月	日
しきを かんがえる	

1

ライオンと キリンでは どちらが なんと おおいですか。



しき

こたえ _____

2

はこの なかに りんごが 6こ あります。 つくえの うえにも りんごが 10こ あります。 りんごは あわせて なんこですか。

しき

こたえ _____

なまえ _____

3

こうえんで こどもが 15 にん あそんで います。 そのうち、 おんなのこは 8にんです。 おとこのこは なんにんですか。

しき

こたえ _____

4


いぬが 5ひき、 ねこが 8ひき います。 ちがいは なんびきですか。

しき

こたえ _____

5

にわとりと ひよこが います。



① あわせて なんわですか。

しき

こたえ _____

② どちらが なんわ おおいですか。

しき

こたえ _____