



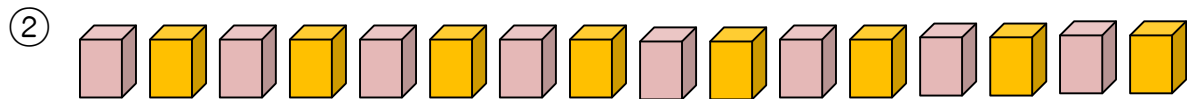
# 10より おおきい かず(2)

月 日  
10と いくつ

**1** いくつ ありますか。 ひだりから かぞえて 10 になったら  
せんで くぎりましょう。



ほん

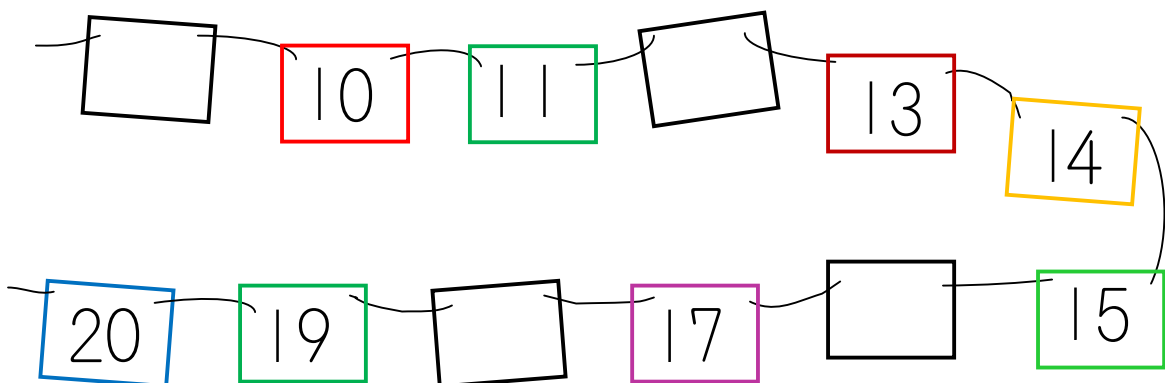


こ




こ

**2** あいている ところに すうじを かきましょう。




なまえ \_\_\_\_\_

**3** いくつ ありますか。



ほん



こ

**4**  に あてはまる かずを かきましょう。

① 10 と 3 で     ②  と 7 で 17

③ 10 と  で 15    ④ 10 と  で 19

⑤  と 4 で 14    ⑥  と 8 で 18