




10よりおおきい かず(1)

月 日
10といくつ

1

えをみて きたえましょう。



① ほしを かぞえましょう 10に なったら せんで かこみましょう。

② ほしの かずは 10こと あと なんこですか。

10こと こ


③ ほしは ぜんぶで なんこですか。

こ

なまえ _____

2

えをみて きたえましょう。




① すずめを 10 わ かぞえて せんで かこみましょう。

② すずめは ぜんぶで なんわですか。

わ

3

えをみて きたえましょう。



① じどうしゃを 10 だい かぞえて せんで かこみましょう。

② じどうしゃは ぜんぶで なんだいですか。

だい