



おさらい 1

がつ 日にち

ふくしゅう

1 おおいほうに ○ を つけましょう。

① ② ③

④

2	3
---	---

 ⑤

8	7
---	---

 ⑥

10	9
----	---

2 □ に あう かず を かき ましょう。

①

4
□ 1

 ②

5
3 □

 ③

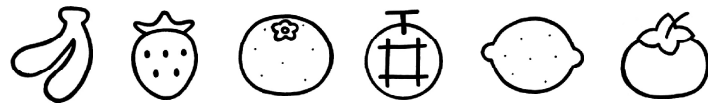
9
4 □

 ④

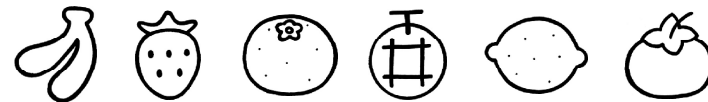
□
8 2

3 くだもの に いろ を ぬり ましょう。

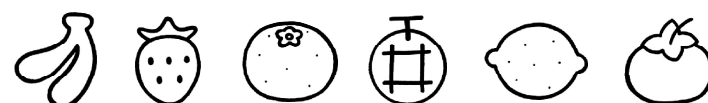
① ひだりから 2こ。



② みぎから 4こめ。




③ ひだりから 3こめと みぎから 2こめ。



なまえ

4 しろねこが 4ひき、くろねこが 5ひき います。
あわせて なんびきですか。

しき




こたえ

↑
たんいをかこう

5 いろがみが 10まい あります。そのうち 3まい
つかいました。まだ つかっていない いろがみは
なんまいですか。

しき



こたえ

6 けいさんを しまししょう。

- ① $5 + 2 = \square$ ② $7 - 3 = \square$ ③ $9 + 1 = \square$
 ④ $3 + 7 = \square$ ⑤ $9 - 6 = \square$ ⑥ $5 + 0 = \square$
 ⑦ $8 - 4 = \square$ ⑧ $2 + 7 = \square$ ⑨ $10 - 3 = \square$
 ⑩ $2 + 5 = \square$ ⑪ $10 - 8 = \square$ ⑫ $1 + 9 = \square$