




ひきざん(3)

がつ 日にち

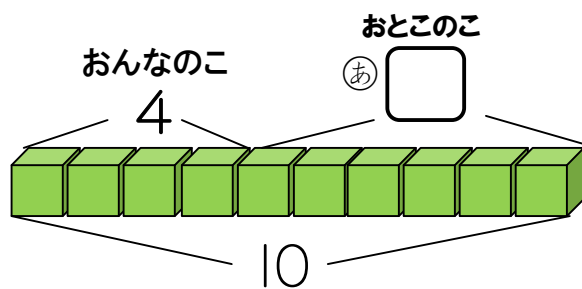
- ・10からひく
- ・0のひきざん

1 こうえんで10にんの こどもが あそんでいます。おんなのこは4にんです。おとこのこは なんにんですか。



に かずを かきましょう。

ブロックを つかって かんがえよう。



10のうち
4が おんなのこ
のこりが おとこのこ。

しき

こたえ _____ にん

2 ひきざんを しましょう。

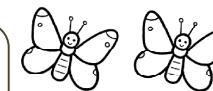

- ① $10 - 2 = \square$ ② $10 - 1 = \square$ ③ $10 - 7 = \square$
 ④ $10 - 3 = \square$ ⑤ $10 - 8 = \square$ ⑥ $10 - 5 = \square$
 ⑦ $10 - 9 = \square$ ⑧ $10 - 6 = \square$ ⑨ $10 - 4 = \square$

なまえ _____

3 ちょうが 3とう います。

ちょうの かぞえかたは
「とう」、「わ」、「ひき」があります。


① 2とう とんでいきました。
のこりは なんとうですか。



しき

こたえ _____ とう


② 3とう とんでいきました。
のこりは なんとうですか。



しき

こたえ _____ とう

③ とんでいきませんでした。
のこりは なんとうですか。



しき

こたえ _____ とう

4 ひきざんを しましょう。

- ① $4 - 4 = \square$ ② $8 - 8 = \square$ ③ $5 - 0 = \square$
 ④ $3 - 0 = \square$ ⑤ $6 - 6 = \square$ ⑥ $9 - 0 = \square$