



たしざん(4)


がつ 日にち

- ・ぜんぶでいくつ
- ・みんなでいくつ

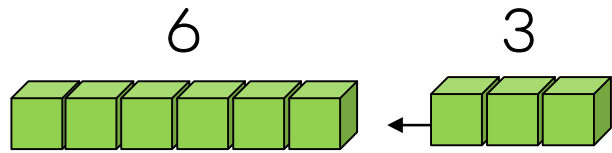
1 ぶんしょうを よんで しきと こたえを かきましょう。

とりが 6わ います。3わ とんできました。

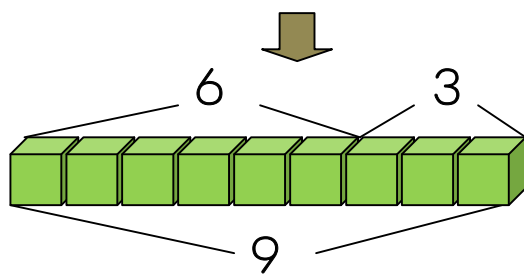
とりは ぜんぶで なんわに なりますか。



😊 ブロックを つかって かんがえよう。



6と3をあわせます。



- 6たす 1は 7
- 6たす 2は 8
- 6たす 3は 9



しき

$$\square + \square = \square$$

こたえ _____ わ

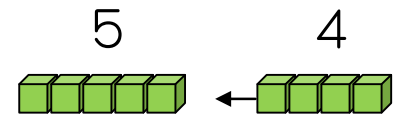
なまえ _____

2 ぶんしょうを よんで しきと こたえを かきましょう。

① ほんが 5さつ ならんで います。その よこに 4さつ ならべました ほんは ぜんぶで なんさつに なりますか。



しき



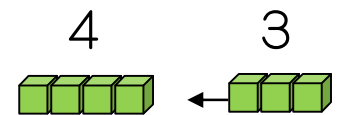
😊 +, = も じぶんで かこう。

こたえ _____ さつ

② おとこのこが 4にん います。おんなのこが 3にん きました。みんなで なんにんですか。



しき



こたえ _____ にん

3 たしざんを しましょう。

① $7 + 2 = \square$ ② $3 + 5 = \square$ ③ $6 + 1 = \square$

④ $6 + 2 = \square$ ⑤ $2 + 4 = \square$ ⑥ $8 + 1 = \square$

⑦ $3 + 3 = \square$ ⑧ $4 + 4 = \square$ ⑨ $3 + 6 = \square$