

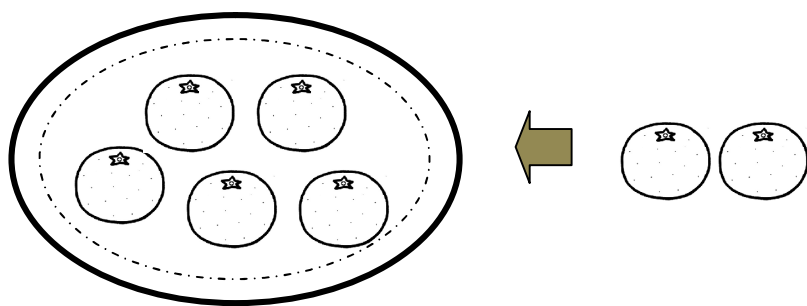


# たしざん(3)

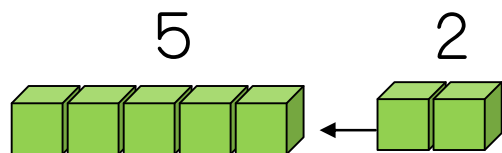
がつ 日にち  
たしざん  
(こたえが9まで)

**1** ぶんしょうを よんで しきと こたえを かきましょう。

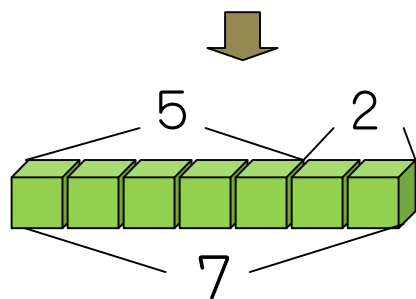
みかんが 5こ あります。みかんを 2こ もらいました。  
みかんは あわせて なんこですか。



😊 ブロックを つかって かんがえよう。



5と2を あわせます。



5たす 1は 6  
5たす 2は 7



しき  
 +  =

こたえ \_\_\_\_\_ こ

なまえ \_\_\_\_\_

**2** たしざんを しましょう。

①  $2 + 5 = \square$

②  $5 + 1 = \square$


③  $4 + 5 = \square$

④  $3 + 5 = \square$

⑤  $1 + 5 = \square$

⑥  $5 + 4 = \square$

**3** えを みて おはなしを かきましょう。しきと こたえも かきましょう。



ひきの ねこが <sup>バス</sup> バスに きます。

びきの ねこが バスに きます。

ねこは

なんびきに なりますか。

しき  
 +  =

こたえ \_\_\_\_\_ びき