

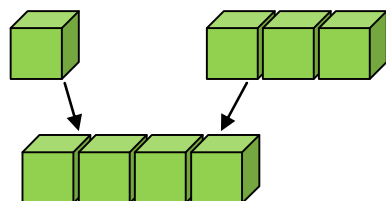



# たしざん(2)

がつ 日に  
たしざん  
(こたえが5まで)

**1** えをみてしきとこたえをかきましょう。

① あわせてえんぴつはなんぼんに なりますか。

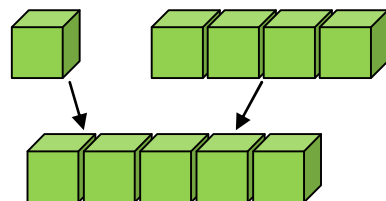



しき  
 $\square + \square = \square$

ふんしょうもんだいは  
しきとこたえをかきます。

こたえ \_\_\_\_\_ ほん

② ぜんぶで にわとりは なんわに なりますか。



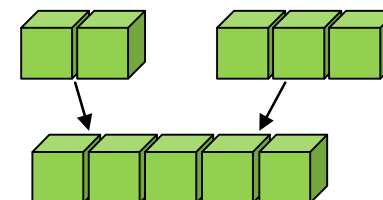
しき  
 $\square + \square = \square$

こたえ \_\_\_\_\_ わ

なまえ \_\_\_\_\_

**2** えをみてしきとこたえをかきましょう。

みんなでこどもはなんにんになりますか。



しき  
 $\square + \square = \square$

こたえ \_\_\_\_\_ にん

**3** たしざんをしましょう。

①  $2 + 1 = \square$

②  $3 + 1 = \square$

③  $1 + 4 = \square$

④  $1 + 1 = \square$

⑤  $3 + 2 = \square$

⑥  $2 + 2 = \square$

⑦  $4 + 1 = \square$

⑧  $2 + 3 = \square$