





# たしざん(1)

がつ にち  
たしざんの いみ


**1** えをみておはなしをかきましょう。



とまと  
トマトが  
□こ  
あります。



トマトが  
□こ  
あります。

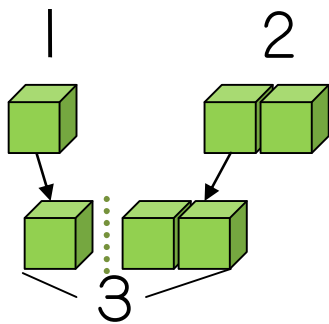


トマトは  
あわせて  
□こです。

しき にすると  
 $1 + 2 = 3$   
(1たす2は3)



ぶろっく  
ブロックを つかって かんがえよう。



1と2をあわせます。  
3になります。

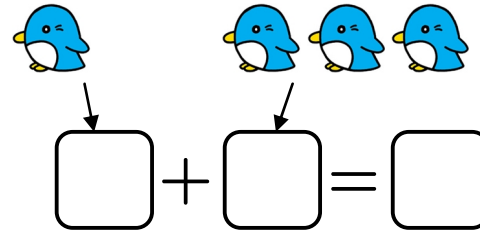
これが **たしざん** だよ。



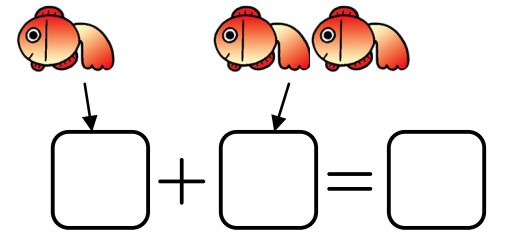
なまえ

**2** えをみて□にかずをかきましょう。

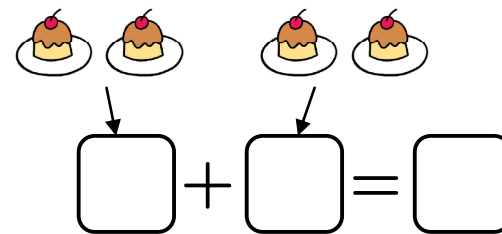
①



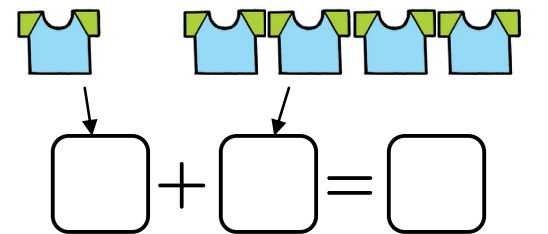
②



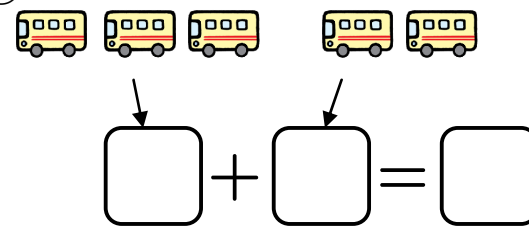
③



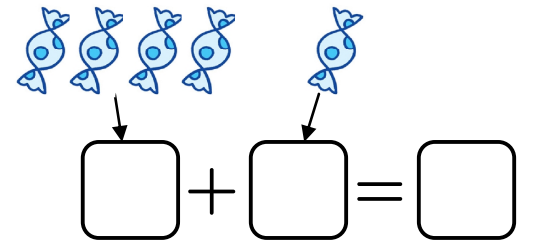
④



⑤



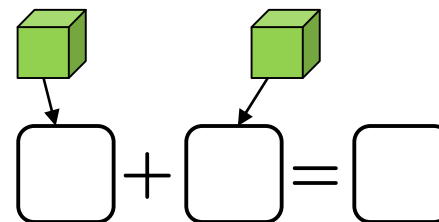
⑥



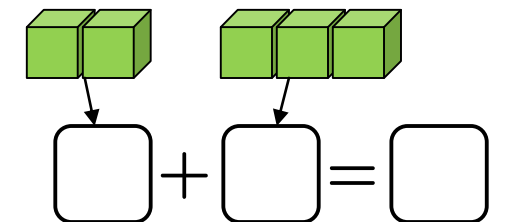
**3**

ブロックをみて□にかずをかきましょう。

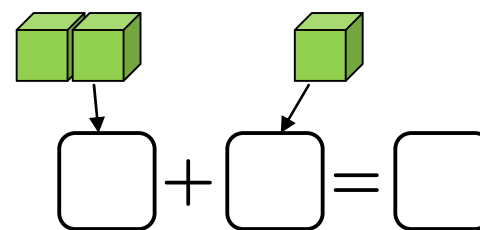
①



②



③



④

